



دفترچه سوال

زیست‌شناسی پایه دهم

آرشیو آزمون‌های تشریحی نیمسال اول



باسمه تعالی

آزمون تشریحی هماهنگ دی ماه

(دوره دوم متوسطه)

نام و نام خانوادگی:

مدت آزمون: ۹۰ دقیقه

کلاس:

مدرسه:

تاریخ آزمون: ۱۴۰۱/۱۰/۱۷

پایه: دهم (رشته تجربی)

نام درس: زیست شناسی

صفحه ۱ از ۴

ردیف	سؤال	بارم
۱	<p>جاهای خالی را با کلمات مناسب پر کنید.</p> <p>(الف) در هر بوم سازگان جمعیت های گوناگون با هم تعامل دارند و یک را به وجود می آورند.</p> <p>(ب) هر چه اختلاف غلظت آب در دو سمت غشا بیشتر باشد، بیشتر می شود.</p> <p>(ج) هورمون از دوازدهه به خون وارد شده و محرک ترشح از پانکراس (لوزالمعده) است.</p> <p>(د) نموداری که از دم و بازدم های یک فرد رسم می شود، نام دارد.</p> <p>(ه) در گویچه قرمز، آنزیمی به نام هست که کربن دی اکسید را با آب ترکیب می کند و پدید می آورد.</p> <p>(و) افراد یک گونه که در زمان و مکان خاصی زندگی می کنند یک را به وجود می آورند.</p>	۲
۲	<p>درستی یا نادرستی عبارتهای زیر را مشخص نمایید.</p> <p>(الف) صفاق، پردهای است که اندام های درون شکم و قفسه سینه را به هم وصل می کند. <input type="checkbox"/> درست <input type="checkbox"/> نادرست</p> <p>(ب) سه غده بزاقی بزرگ و غده های بزاقی کوچک در حفره دهان وجود دارند که بزاق ترشح می کنند. <input type="checkbox"/> درست <input type="checkbox"/> نادرست</p> <p>(ج) نایژک ها می توانند مقدار هوای خروجی دستگاه تنفس را تنظیم کنند. <input type="checkbox"/> درست <input type="checkbox"/> نادرست</p> <p>(د) هوای دمی اکسیژن بیشتری دارد اما در هوای بازدمی کربن دی اکسید بیشتر است. <input type="checkbox"/> درست <input type="checkbox"/> نادرست</p> <p>(ه) در بی مهرگان همانند مهره داران می توان تنفس ششی را مشاهده کرد. <input type="checkbox"/> درست <input type="checkbox"/> نادرست</p> <p>(و) گلوکز در قارچ ها به شکل پلی ساکاریدی به نام گلیکوژن ذخیره می شود. <input type="checkbox"/> درست <input type="checkbox"/> نادرست</p> <p>(ز) آنزیم لیپاز موجود در ترکیبات صفرا، به گوارش لیپیدهای موجود در روده باریک کمک می کند. <input type="checkbox"/> درست <input type="checkbox"/> نادرست</p> <p>(ح) انقباض ماهیچه های مخطط قلبی موجود در دریچه های دولختی و سه لختی، در هنگام شروع انقباض بطن ها، باعث بسته شدن این دریچه ها شده و صدای اول قلب را ایجاد می کند که صدایی قوی، گنگ و طولانی تر است. <input type="checkbox"/> درست <input type="checkbox"/> نادرست</p>	۲
۳	<p>عبارت مناسب را از داخل پرانتز انتخاب نمایید.</p> <p>(الف) در بافت پیوندی (سست / متراکم) میزان رشته های کلاژن بیشتر، تعداد یاخته های آن کمتر و ماده زمینه ای آن نیز اندک است.</p> <p>(ب) بنداره های لوله گوارش زمانی که مواد از آنها عبور نمی کنند در حال (انقباض / استراحت) هستند.</p> <p>(ج) در پارامسی با ترشح آنزیم از کافنده تن یا لیزوزوم (واکوئل غذایی / واکوئل گوارشی) تشکیل می شود.</p> <p>(د) زیاد بودن نسبت لیوپروتئین کم چگال به پرچگال، احتمال رسوب کلسترول در دیواره سرخرگ ها را (کاهش / افزایش) می دهد.</p> <p>(ه) در فرآیند درون بری یا آندوسیتوز، مساحت غشای یاخته (کاهش / افزایش) نمی یابد.</p> <p>(و) در حبابک ها، باکتری ها و ذرات گرد و غبار، از طریق (ماکروفاژ / مخاط مژک دار) پاکسازی می شوند.</p> <p>(ز) ماهیچه مورب از جنس ماهیچه (صاف / اسکلتی) است که در دیواره معده وجود دارد.</p> <p>(ح) دستگاه گردش مواد در ملخ (همانند / برخلاف) دوزیست، در انتقال گازهای تنفسی نقش ندارد.</p>	۲
۴	<p>فسفولیپیدها و تری گلیسیریدها را از نظر ساختاری با هم مقایسه کنید.</p>	۱



مرکز بخش آموزش مدارس برتر

باسمه تعالی

آزمون تشریحی هماهنگ دی ماه

(دوره دوم متوسطه)

نام و نام خانوادگی:

مدرسه:

کلاس:

مدت آزمون: ۹۰ دقیقه

پایه: دهم (رشته تجربی)

نام درس: زیست شناسی

تاریخ آزمون: ۱۴۰۱/۱۰/۱۷

صفحه ۲ از ۴

ردیف	سؤال	بارم
۵	<p>در هر یک از عبارت‌های زیر یک غلط علمی وجود دارد. زیر آن خط کشیده و کلمه مناسب را در پرانتز مقابل هر عبارت بنویسید. (از تغییر فعل جمله خودداری کنید)</p> <p>(الف) در جاهای متعدد، یاخته‌های غشای پایه مشترک حبابک و مویرگ، مسافت انتشار گازها را به حداقل ممکن می‌رساند. ()</p> <p>(ب) در بیماری سللیک بر اثر پروتئین گلوتن، یاخته‌های روده تخریب می‌شوند و پرزها حتی ریزپرزها از بین می‌روند. ()</p> <p>(ج) هنگامی که یک تخم‌مرغ بدون پوسته آهکی را در محلول آب نمک غلیظ قرار دهیم، تخم‌مرغ پس از مدتی متورم می‌شود. ()</p> <p>(د) در غشاء یاخته هر جاندار دو نوع لیپید قابل مشاهده است. ()</p>	۱
۶	<p>اگر در هر دو ظرف (الف) و (ب) معرف آب آهک بریزیم و از طریق لوله مرکزی، دم و بازدم انجام دهیم:</p> <p>(الف) در کدام ظرف زودتر تغییر رنگ ایجاد می‌شود؟</p> <p>(ب) آب آهک درون ظرف‌ها سرانجام به چه رنگی در می‌آید؟</p> <p>(ج) این آزمایش چه موضوعی را اثبات می‌نماید؟ (دو مورد)</p> <p>(د) به جای آب آهک از کدام معرف دیگر می‌توان استفاده کرد؟</p>	۱/۲۵
۷	<p>به پرسش‌های زیر پاسخ کوتاه دهید.</p> <p>(الف) سه بخش سازنده بافت پیوندی را نام ببرید.</p> <p>(ب) کربن دی‌اکسید به چند شکل در خون حمل می‌شود؟ نام ببرید.</p> <p>(ج) در نوزاد دوزیستان و در دوزیستان بالغ، تنفس به چه شکل‌هایی مشاهده می‌شود؟</p> <p>(د) در کرم کدو، مواد مغذی از چه طریقی جذب می‌شوند؟ چرا؟</p>	۳
۸	<p>(الف) دو مورد از موارد ایجاد کننده خیز (ادم) را نام ببرید.</p> <p>(ب) چرا بطن چپ قلب، دیواره قطورتری دارد؟</p> <p>(ج) بافت پیوندی عایق موجود در ساختار قلب (بین دهلیزها و بطن‌ها) چه نقشی به عهده دارد؟</p>	۱/۵
۹	<p>اصطلاحات زیر را تعریف کنید.</p> <p>(الف) حجم ضربه‌ای:</p> <p>(ب) ظرفیت تام:</p>	۱/۲۵



مرکز بخش آموزش مدارس برتر

تاریخ آزمون: ۱۴۰۱/۱۰/۱۷

صفحه ۳ از ۴

باسمه تعالی

آزمون تشریحی هماهنگ دی ماه

(دوره دوم متوسطه)

مدت آزمون: ۹۰ دقیقه

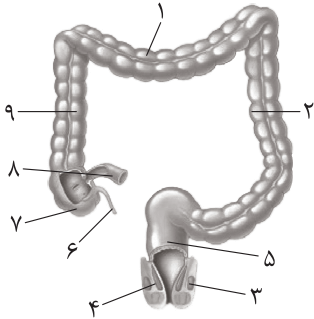






کلاس:

پایه: دهم (رشته تجربی)

نام و نام خانوادگی:

مدرسه:

نام درس: زیست‌شناسی

ردیف	سؤال	بارم						
۱۰	<p>شکل زیر مربوط به روده بزرگ است. با توجه به آن به پرسش‌ها پاسخ دهید.</p> <p>الف) انتهای روده بزرگ به کدام شماره متصل است؟ نام آن را بنویسید.</p> <p>ب) لایه ماهیچه‌ای در همه شماره‌ها به جز شماره از نوع ماهیچه صاف است.</p> <p>ج) شماره (۹) به معده نزدیک‌تر است یا شماره (۲)؟</p> <p>د) در روده بزرگ، جذب کدام موارد انجام می‌شود؟</p>	۱/۵						
								
۱۱	فعالیت دستگاه گوارش توسط کدام دستگاه‌ها تنظیم می‌شود؟ نام ببرید.	۵/۰						
۱۲	<p>دلیل علمی هر یک از عبارات‌های زیر را بنویسید.</p> <p>الف) فشار مایع جنب از فشار جو کمتر است.</p> <p>ب) رنگ محلول لوگول در مجاورت بزاق تغییر نمی‌کند.</p>	۱						
۱۳	با توجه به شکل‌های بافت‌های بدن انسان، جدول زیر را کامل کنید.	۱						
<table><tr><th>نام بافت</th><th>مثال اندام دارای این بافت</th></tr><tr><td>۱-.....</td><td>۲-.....</td></tr><tr><td>۳-.....</td><td>۴-.....</td></tr></table>			نام بافت	مثال اندام دارای این بافت	۱-.....	۲-.....	۳-.....	۴-.....
نام بافت	مثال اندام دارای این بافت							
۱-.....	۲-.....							
۳-.....	۴-.....							
<table><tr><td></td><td></td><td></td></tr><tr><td></td><td></td><td></td></tr></table>								
								
								



مرکز بخش آموزش مدارس برتر

تاریخ آزمون: ۱۴۰۱/۱۰/۱۷

صفحه ۴ از ۴

باسمه تعالی

آزمون تشریحی هماهنگ دی ماه

(دوره دوم متوسطه)

مدت آزمون: ۹۰ دقیقه

کلاس:

پایه: دهم (رشته تجربی)

نام و نام خانوادگی:

مدرسه:

نام درس: زیست شناسی

ردیف	سؤال	بارم
۱۴	در بازدم عمیق، چند مورد از موارد زیر می توانند نقش داشته باشند؟ آنها را مشخص نمایید. (الف) انقباض ماهیچه بین دنده ای خارجی (ب) استراحت دیافراگم (ج) انقباض ماهیچه شکمی (د) انقباض ماهیچه های گردن (ه) ویژگی کشسانی شش ها (و) استراحت ماهیچه بین دنده ای داخلی	۰/۷۵
۱۵	گزینه درست را انتخاب نمایید. در مرحله استراحت عمومی قلب، دریچه های سینی هستند و خون (۱) باز - به بطن ها وارد می شود (۲) بسته - از دهلیزها خارج می شود (۳) بسته - از بطن ها خارج می شود (۴) باز - به دهلیزها وارد می شود	۰/۲۵
	جمع بarm	۲۰



باسمه تعالی

پیش آزمون تشریحی هماهنگ دی ماه

(دوره دوم متوسطه)

نام و نام خانوادگی:

مدت آزمون: ۹۰ دقیقه

کلاس:

مدرسه:

تاریخ آزمون: دی ماه ۱۴۰۱

نام درس: زیست شناسی (سری ۱) پایه: دهم (رشته تجربی)

صفحه ۱ از ۳

ردیف	سؤال	بارم
۱	<p>درستی یا نادرستی عبارات زیر را مشخص نمایید.</p> <p>(الف) از راه های افزایش کمیت و کیفیت غذای انسان شناخت روابط انسان و گیاهان است.</p> <p>(ب) سوخت های زیستی همانند سوخت های فسیلی از تجزیه پیکر جانوران به دست می آیند.</p> <p>(ج) تمامی بخش های لوله گوارش به صفاق متصل نیست.</p> <p>(د) ماهیچه مورب از جنس ماهیچه اسکلتی نمی تواند باشد.</p> <p>(ه) آنزیم پپسین در pH اسیدی بهترین عملکرد را دارد.</p> <p>(و) در معده برخلاف لوزالمعده یک نوع پروتئاز وجود دارد.</p> <p>(ز) در هوای دمی همانند هوای بازدمی میزان O_2 بیشتر از CO_2 است.</p> <p>(ح) مخاط مژکدار تنها مربوط به بخش هادی می باشد.</p> <p>(ط) یاخته های ماهیچه قلب می توانند از خون درون حفره ها، اکسیژن و مواد غذایی بگیرند.</p> <p>(ی) دو سیاهرگ ششی که خون روشن دارند، به دهلیز چپ و دو سیاهرگ ششی دیگر به دهلیز راست می روند. درست</p>	۲/۵
۲	<p>جاهای خالی را با کلمات مناسب پر کنید.</p> <p>(الف) هر اندام از چند مختلف تشکیل شده است.</p> <p>(ب) افراد یک که در زمان و مکانی خاص زندگی می کنند یک را به وجود می آورند.</p> <p>(ج) گلیکوژن در و قارچ ها ساخته می شود.</p> <p>(د) روده بزرگ ندارد و یاخته های پوششی آن، ماده مخاطی ترشح می کنند.</p> <p>(ه) با به استراحت درآمدن ماهیچه های و هوای درون شش ها به بیرون رانده می شود.</p> <p>(و) سطح داخلی حفره های قلب توسط لایه ای نازک از بافت پوششی به نام پوشیده شده است که در تشکیل قلب نیز شرکت می کند.</p>	۲/۵
۳	<p>در شکل زیر بخش های مشخص شده را نامگذاری کنید.</p> <p>۱- ۲- ۳- ۴-</p> 	۱
۴	<p>موارد ستون اول را به ستون دوم وصل کنید. (یک مورد در هر طرف اضافی است.)</p> <p>۱- شروع گوارش مکانیکی پروتئین ها ۲- ریفلاکس ۳- گلیکوپروتئین ۴- کبد ۵- ساخت نمک های صفراوی ۶- گوارش برون یاخته ای و سپس درون یاخته ای ۷- کم خونی</p> <p>(الف) موسین (ب) کیسه صفرا (ج) دهان (د) تخریب یاخته کناری غده معده (ه) تنش و اضطراب و ساخت LDL (ز) هیدر</p>	۱/۵



مرکز تحقیقات آموزش مدارس پرتو

باسمه تعالی

پیش آزمون تشریحی هماهنگ دی ماه

(دوره دوم متوسطه)

نام و نام خانوادگی:

مدت آزمون: ۹۰ دقیقه

کلاس:

مدرسه:

تاریخ آزمون: دی ماه ۱۴۰۱

نام درس: زیست شناسی (سری ۱) پایه: دهم (رشته تجربی)

صفحه ۲ از ۳

ردیف	سؤال	بارم
۵	به سوالات زیر پاسخ کوتاه بدهید. (الف) هنگامی که یک تخم بدون پوسته آهکی را در محلول آب نمک غلیظ قرار می دهید، تخم مرغ چروکیده می شود یا متورم؟ فشار اسمزی داخل تخم مرغ بیشتر است یا آب نمک؟ (ب) درشت خوارها چه یاخته هایی هستند و در کجای دستگاه تنفس دیده می شوند؟ (ج) غشای پایه مشترک را در کدام قسمت دستگاه تنفس می توان دید و چه مزیتی دارد؟ (د) ضخامت دیواره کدام یک از حفره های قلبی از همه بیشتر است و جنس پیراشامه چیست؟	۵/۵ ۵/۵ ۵/۵ ۵/۵
۶	بر روی نمودار زیر حجم جاری و حجم ذخیره دمی را با رسم اسپیروگرام مشخص کنید. 	۱
۷	در عبارت های زیر پاسخ صحیح را مشخص کنید. (الف) چربی (همانند / برخلاف) بافت پیوندی است دارای ماده زمینه ای است. (ب) در انتقال فعال (همانند / برخلاف) انتشار تسهیل شده از (پروتئین های سراسری / پروتئین های سطحی) برای انتقال مواد استفاده می شود. (ج) در چرخه ضربان قلب در هنگام خروج خون تیره از قلب (دریچه های دهلیزی - بطنی / دریچه ابتدای سرخرگ ششی) بسته و دریچه سینی (باز / بسته) است. (د) دستگاه گردش مواد در ملخ (همانند / برخلاف) دوزیست، در انتقال گازهای تنفسی نقش (ندارد / دارد). (ه) (حجم باقی مانده / حجم جاری) در ظرفیت حیاتی محاسبه نمی شود.	۲
۸	به سوالات زیر پاسخ بلند بدهید. (الف) خون تیره بعد از خروج از روده ها چه مسیری را طی می کند تا به دهلیز راست برسد؟ (ب) پمپ فشار مثبت را توضیح دهید. (ج) تنظیم عصبی دستگاه گوارش توسط چه بخش هایی انجام می شود؟ نام ببرید.	۳



باسمه تعالی

پیش آزمون تشریحی هماهنگ دی ماه

(دوره دوم متوسطه)

نام و نام خانوادگی:

مدت آزمون: ۹۰ دقیقه

کلاس:

مدرسه:

تاریخ آزمون: دی ماه ۱۴۰۱

پایه: دهم (رشته تجربی)

نام درس: زیست شناسی (سری ۱)

صفحه ۳ از ۳

ردیف	سؤال	بارم
۹	<p>کلمه مناسب را انتخاب کنید و در جای خالی بنویسید</p> <p>«یاخته های چربی - پوششی - ۴/۰ - بطن ها - پیشاهنگ - دهلیزها - بصل النخاع -</p> <p>یاخته های عصبی - پل مغزی - ۵/۰ - پیوندی - دهلیزی بطنی»</p> <p>(الف) در لایه ماهیچه ای و زیر مخاط، لوله گوارش شبکه ای از وجود دارد.</p> <p>(ب) یاخته های بافت به یکدیگر بسیار نزدیک اند و بین آنها فضای بین یاخته ای اندکی وجود دارد.</p> <p>(ج) موج QRS فعالیت الکتریکی را نشان می دهد.</p> <p>(د) مدت زمان ورود خون به بطن ها ثانیه است.</p> <p>(ه) فرستادن پیام از گره به بطن ها با فاصله زمانی انجام می شود.</p> <p>(و) مرکز تنفس در می تواند مدت زمان دم را تنظیم کند.</p>	۱/۵
۱۰	<p>پاسخ صحیح را انتخاب کنید.</p> <p>(الف) بخش های دو غشایی یک سلول جانوری کدامند؟ (دستگاه گلژی / میتوکندری)</p> <p>(ب) آنزیم ها توسط کدام اندامک تولید می شوند؟ (ریبوزوم / سانتریول)</p> <p>(ج) جهت پیام عصبی پس از جسم یاخته ای به کدام طرف است؟ (دندریت / آکسون)</p> <p>(د) کدام یک از موارد زیر جزء شیره گوارشی معده به حساب نمی آید؟ (گاسترین / HCl)</p> <p>(ه) کدام یک از بافت های بدن انسان بیشترین میزان ذخیره انرژی بدن را دارا می باشد؟ (ماهیچه ای / چربی)</p> <p>(و) در مقطع شش گوسفند، کدام یک از سوراخ ها همیشه باز نیست؟ (سرخرگ / سیاهرگ)</p> <p>(ز) کدام یک محیط داخلی را تشکیل نمی دهد؟ (آب میان بافتی / سیتوپلاسم)</p> <p>(ح) کدام یک به بخش مبادله ای دستگاه تنفس نمی رسد؟ (هوای مرده / حجم باقی مانده)</p> <p>(ط) در هنگام سرفه و عطسه کدام یک از حالات زیر اتفاق می افتد؟ (بازدم عمیق و سریع / دم معمولی)</p> <p>(ی) کدام یک از جانوران زیر فاقد آبشش پراکنده است؟ (ستاره دریایی / نوزاد دوزیستان)</p> <p>(ک) فشار مایع جنب نسبت به فشار جو (اتمسفر) چگونه است؟ (بیشتر / کمتر)</p> <p>(ل) فراوان ترین لیپید موجود در سلول های جانوری چیست؟ (کلسترول / فسفولیپید)</p>	۳
	جمع بارج	۲۰



باسمه تعالی

پیش آزمون تشریحی هماهنگ دی ماه

(دوره دوم متوسطه)

نام و نام خانوادگی:

مدت آزمون: ۹۰ دقیقه

کلاس:

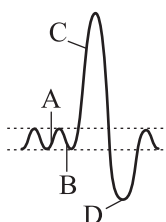
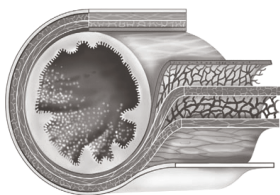
مدرسه:

تاریخ آزمون: دی ماه ۱۴۰۱

نام درس: زیست شناسی (سری ۲) پایه: دهم (رشته تجربی)

صفحه ۱ از ۴

ردیف	سؤال	بارم
۱	<p>در هر یک از سوالات زیر گزینه صحیح را انتخاب کنید.</p> <p>الف) چند مورد از موارد زیر، بیانگر ویژگی مشترک «هفتمین و هشتمین سطح از سطوح سازمان یابی حیات» است؟</p> <p>● وجود عوامل غیرزنده محیط</p> <p>● وجود چندین اجتماع</p> <p>● حضور تعدادی گونه مختلف</p> <p>● حضور پائین ترین سطح سازمان یابی حیات</p> <p>۱ (۱) ۲ (۲) ۳ (۳) ۴ (۴)</p> <p>ب) گروهی از لیپیدها که در ذخیره انرژی نقش مهمی دارند، گروهی از لیپیدها که بخش اصلی تشکیل دهنده غشای یاخته ای هستند، (۱) همانند - توسط شبکه آندوپلاسمی زیر و جسم گلژی تولید می شوند. (۲) برخلاف - در ساخت انواعی از هورمون ها شرکت می کنند. (۳) برخلاف - واجد بیش از سه نوع عنصر در ساختار خود هستند. (۴) همانند - دارای بیش از یک نوع مولکول (زیرواحد) در ساختار خود می باشند. ج) کدام گزینه عبارت زیر را به نادرستی کامل می کند؟ «کم خونی می تواند ناشی از تخریب گروهی از یاخته های دیواره معده باشد که» (۱) همواره در مجاورت یاخته های اصلی قرار دارند. (۲) نوعی ترکیب فعال کننده آنزیم های شیر معده را ترشح می کنند. (۳) در مجاورت سایر یاخته ها قرار دارند و واجد چین خوردگی های غشایی اند. (۴) در شرایطی، ترشحات آنها می تواند سبب آسیب به مخاط مری شود. د) با توجه به شکل مقابل نمی توان گفت: (۱) شبکه های عصبی موجود در آن با دستگاه عصبی خودمختار در ارتباط است. (۲) در فضای این قسمت از لوله گوارش، واحدهای ساختاری پروتئین ها ایجاد می شود. (۳) بخشی از لوله گوارش را نشان می دهد که دارای لایه ماهیچه ای مورب می باشند. (۴) بخشی از لوله گوارش را نشان می دهد که با تأثیر بر یکی از اندام های بدن باعث قلیایی شدن محیط درون خودش می شود. ه) با توجه به شکل زیر که نشان دهنده اسپیروگرام یک مرد سالم و بالغ است، می توان گفت که در نقطه (۱) A برخلاف C، حجم قفسه سینه همانند حجم حبابک ها در حال افزایش است. (۲) B برخلاف D، ماهیچه بین دنده ای داخلی همانند ماهیچه شکمی در حال انقباض است. (۳) B همانند C، فشار مایع جنب برخلاف فشار هوای درون حبابک ها، در حال افزایش است. (۴) A همانند B، ماهیچه اسکلتی بین حفره شکم و قفسه سینه نسبت به ماهیچه های بین دنده ای نقش اصلی را دارد.</p>	۴/۵





باسمه تعالی

پیش آزمون تشریحی هماهنگ دی ماه

(دوره دوم متوسطه)

نام و نام خانوادگی:

مدت آزمون: ۹۰ دقیقه

کلاس:

مدرسه:

تاریخ آزمون: دی ماه ۱۴۰۱

صفحه ۲ از ۴

نام درس: زیست شناسی (سری ۲) پایه: دهم (رشته تجربی)

بارم	سؤال	ردیف
	<p>(و) با توجه به شکل مقابل</p> <p>(۱) بیشتر بودن فشار مایعی که در بخش B قرار دارد نسبت به فشار جو، باعث می شود شش ها در حالت بازدم کاملاً جمع نشوند.</p> <p>(۲) اگر بخش A افزایش دهنده حجم قفسه سینه باشد، قطعاً در فرآیند بازدم منقبض نمی شود.</p> <p>(۳) بیشتر حجم بخش C را تارهای عنکبوت مانند تشکیل می دهند.</p> <p>(۴) بخش D به سطح خارجی قفسه سینه متصل است.</p> <p>(ز) چند مورد از عبارت های زیر در مورد شکل زیر درست است؟</p> <ul style="list-style-type: none"> ● A فاقد بافت پیوندی است. ● B هنگام شروع ثبت موج T باز است. ● در A و D خون روشن جریان دارد. ● E هنگام ثبت موج S بسته است. <p>(ح) گره شبکه هادی قلب</p> <p>(۱) دهلیزی بطنی - شروع کننده تکان های قلبی است.</p> <p>(۲) اول - در دیواره پشتی دهلیز راست و زیر منفذ بزرگ سیاهرگ زیرین قرار دارد.</p> <p>(۳) سینوسی دهلیزی - نسبت به گره دهلیزی بطنی بزرگ تر است.</p> <p>(۴) ضربان ساز - در دیواره پشتی دهلیز راست، بلافاصله در عقب دریچه سه لختی قرار دارد.</p> <p>(ط) کدام گزینه در رابطه با دستگاه زیر درست <u>نمی باشد</u>؟</p> <p>(۱) این دستگاه برای مقایسه ظرفیت حیاتی افراد است.</p> <p>(۲) ظرفیت واقعی شش ها را می توان با آن مشخص کرد.</p> <p>(۳) برای استفاده از این دستگاه، بینی باید حتماً بسته باشد.</p> <p>(۴) در این دستگاه گنجایش ظرف وارونه، حداقل باید پنج لیتر باشد.</p>	<p>۱ (۱)</p> <p>۲ (۲)</p> <p>۳ (۳)</p> <p>۴ (۴)</p>
۴/۵	<p>درستی یا نادرستی عبارات زیر را با ذکر دلیل مشخص کنید.</p> <p>(الف) هر مولکول زیستی حداقل از سه عنصر کربن، هیدروژن و اکسیژن تشکیل شده است.</p> <p>(ب) ورود هر ماده که با صرف انرژی همراه باشد، نیازمند نوعی پروتئین غشایی است.</p> <p>(ج) در تمامی لایه های لوله گوارشی، غشا پایه وجود دارد.</p> <p>(د) ورود مواد غذایی از فضای روده به درون یاخته های پوششی روده باریک را جذب گویند.</p> <p>(ه) یکی از سلول های دیواره حبابک، ماکروفاژ است که جزء آخرین عوامل دفاعی دستگاه تنفس می باشد.</p> <p>(و) از سه روش جابه جایی کربن دی اکسید، در دو روش آن گویچه های قرمز نقش دارند.</p> <p>(ز) در یک انسان سالم، در مرحله ای از دوره قلبی که ۴/۰ ثانیه طول می کشد، خون به هر چهار حفره قلب وارد می شود.</p> <p>(ح) بعد از پایان یافتن سیستول بطنی، ابتدا صدای دوم شنیده شده و سپس دریچه های سینی بسته می شوند.</p> <p>(ط) افزایش کربن دی اکسید خطرناک تر از کاهش اکسیژن است.</p>	۲



باسمه تعالی

پیش‌آزمون تشریحی هماهنگ دی‌ماه

(دوره دوم متوسطه)

نام و نام خانوادگی:

مدت آزمون: ۹۰ دقیقه

کلاس:

مدرسه:

تاریخ آزمون: دی‌ماه ۱۴۰۱

نام درس: زیست‌شناسی (سری ۲) پایه: دهم (رشته تجربی)

صفحه ۳ از ۴

ردیف	سؤال	بارم
۳	<p>به سوالات زیر پاسخ کوتاه دهید:</p> <p>(الف) اولین اندام دریافت‌کننده خون خروجی از پرزهای روده را نام ببرید؟</p> <p>(ب) نوع گوارش (درون سلولی / برون سلولی) در هیدر را مشخص کنید.</p> <p>(ج) در ساختار پرزهای روده باریک، کدام یک از چهار لایه اصلی لوله گوارش شرکت دارد (دارند)؟</p> <p>(د) فرآیند آسیاب کردن غذا، در کدام قسمت پرندگان دانه‌خوار صورت می‌گیرد؟</p> <p>(ه) در صورت اختلال در فعالیت یاخته نوع دوم حبابک‌ها، حجم هوای باقی‌مانده، کاهش می‌یابد یا افزایش؟</p> <p>(و) نقش شبکه مویرگی سطحی درون حفره بینی چیست؟</p> <p>(ز) مخاط مژکدار در کدام بخش سیستم تنفسی ما به اتمام می‌رسد؟</p> <p>(ح) در افرادی که دخانیات مصرف می‌کنند، مؤثرترین راه برای خروج مواد خارجی، چیست؟</p> <p>(ط) در کدام دوره چرخه ضربان قلب، خون در درون دهلیزها جمع می‌شود؟</p> <p>(ی) بافتی را نام ببرید که دارای غشای پایه است؟</p> <p>(ک) علت استحکام دریچه‌های قلبی مربوط به وجود چه نوع بافتی است؟</p> <p>(ل) به نیمه راست قلب، چند رگ مرتبط است؟</p>	۳
۴	<p>هر یک از موارد زیر جزء کدام ویژگی حیات به شمار می‌روند؟</p> <p>(الف) با سرد شدن هوا بعضی از پرندگان کوچ می‌کنند.</p> <p>(ب) با مصرف شیرینی گلوکز خون افزایش می‌یابد که با ترشح هورمون به وضعیت قبلی باز می‌گردد.</p>	۵/۰
۵	<p>برای هر یک از موارد زیر یک اندامک نام ببرید.</p> <p>(الف) پارامسی، مواد غذایی درون سلول را توسط آنزیم‌های این اندامک تجزیه می‌کند.</p> <p>(ب) یاخته‌ای که مواد زیادی را با انتقال فعال جابه‌جا می‌کند، دارای تعداد زیادی از این اندامک است.</p>	۵/۰
۶	<p>در هر یک از موارد زیر، روش جابه‌جایی مواد از عرض غشا را مشخص کنید.</p> <p>(الف) این نوع جابه‌جایی برخلاف شیب غلظت است.</p> <p>(ب) مولکول‌های کوچک در این روش جابه‌جایی حین عبور از غشا با مولکول‌های اصلی غشا در تماس هستند.</p>	۵/۰
۷	<p>(الف) آیا ممکن است ورود آب به درون یاخته در اثر این پدیده موجب ترکیدن یاخته‌های بدن ما شود؟</p> <p>(ب) نام پدیده مقابل؟</p>	۵/۰



مرکز بخش آموزش مدارس برتر

باسمه تعالی

پیش آزمون تشریحی هماهنگ دی ماه

(دوره دوم متوسطه)

نام و نام خانوادگی:

تاریخ آزمون: دی ماه ۱۴۰۱

مدت آزمون: ۹۰ دقیقه

کلاس:

مدرسه:

صفحه ۴ از ۴

نام درس: زیست شناسی (سری ۲) پایه: دهم (رشته تجربی)

ردیف	سؤال	بارم
۸	با توجه به ساختار و فعالیت دستگاه گوارش موارد زیر را مشخص کنید: (الف) جایگاه شروع حرکات کرمی (ب) آنزیمی که نقش اصلی در گوارش چربی ها دارد (ج) محل جذب ویتامین B _{۱۲} (د) آنزیم آغاز کننده گوارش کربوهیدرات ها (ه) نوع ماهیچه بنداره خارجی مخرج (و) هورمونی که توسط یاخته های غده معده تولید می شود	۱/۵
۹	با توجه به شکل زیر نقش هر یک از هورمون های (الف) و (ب) را بنویسید. 	۰/۵
۱۰	الف) علت کارآمدی و کارآیی سیستم تنفسی در پرندگان را مشخص کنید. ب) انواع تنفس در قورباغه بالغ را نام ببرید.	۱
۱۱	علت هر یک از موارد زیر را بنویسید. الف) هنگامی که به لوله آزمایش حاوی نشاسته، بزاق دهان را اضافه کنیم محلول لوگل تغییر رنگ نمی دهد. ب) پروتئازهای قوی لوزالمعده، خود لوزالمعده را تجزیه نمی کنند. ج) بریدن نایژه های اصلی به سادگی نای نیست. د) قلب در هنگام سیستول و دیاستول همانند یک توده یاخته ای واحد عمل می کند. ه) انقباض بطن ها از قسمت پایین آنها شروع می شود و به سمت بالا ادامه می یابد. و) جهت تشخیص سطح پشتی و شکمی قلب می توان از عروق کرونری کمک گرفت.	۳
	جمع بارم	۲۰



باسمه تعالی

آزمون تشریحی مدارس سلام

(دوره دوم متوسطه)



مجموعه مدارس سلام

نام و نام خانوادگی:

مدرسه:

کلاس:

مدت آزمون: ۹۰ دقیقه

پایه: دهم (رشته تجربی)

نام درس: زیست‌شناسی

تاریخ آزمون: ۱۴۰۰/۱۰/۱۹

صفحه ۱ از ۴

ردیف	سؤال	بارم
۱	<p>درستی یا نادرستی عبارات زیر را مشخص کنید. (بدون ذکر دلیل)</p> <p>الف) دانشمندان و پژوهشگران علوم تجربی فقط در جستجوی علت‌های پدیده‌های طبیعی و قابل مشاهده‌اند.</p> <p>ب) لیزوزوم، کیسه‌ای دارای انواع آنزیم‌ها برای تولید و تجزیه مواد می‌باشد.</p> <p>پ) آئورت نسبت به سرخرگ موجود در کبد، رشته‌های کشسان کمتری دارد.</p> <p>ت) میانگین برون‌ده قلبی در همه بزرگسالان یکسان و در حدود ۵ لیتر در دقیقه است.</p> <p>ث) برای تبادل گاز در حبابک‌ها، اکسیژن حداقل از یک غشای پایه و دو لایه یاخته‌ای بافت پوششی عبور می‌کند.</p> <p>ج) هر یک از یاخته‌های بافت پوششی توسط غشای پایه به یکدیگر و به بافت‌های زیر آن متصل می‌شوند.</p> <p>چ) آنزیم انیدراز کربنیک موجود در گلبول قرمز سبب تجزیه اسید کربنیک به یون بیکربنات و هیدروژن می‌شود.</p> <p>ح) سیاهرگ کرونری، خون تیره دیواره قلب را به دهلیز راست می‌ریزد.</p>	۲
۲	<p>جاهای خالی را با کلمات مناسب کامل کنید:</p> <p>الف) هنگام بلع غذا، راه نای توسط و راه بینی توسط بسته می‌شود.</p> <p>ب) ساکارز از پیوند بین گلوکز و تشکیل می‌شود.</p> <p>پ) تنفس ناپیدیسی در و تنفس پوستی در وجود دارد.</p> <p>ت) گازگرفتگی یعنی مسمومیت با</p> <p>ث) با تخریب یاخته‌های کناری معده ساخت و با اختلال مواجه می‌شود.</p>	۲
۳	<p>واژه مناسب را از بین واژه‌های داخل پرانتز انتخاب کنید.</p> <p>الف) در انقباض، یاخته‌های (عصبی / ماهیچه‌ای) توسط یاخته‌های (عصبی / ماهیچه‌ای) تحریک می‌شوند.</p> <p>ب) (HDL / LDL) احتمال رسوب کلسترول را در دیواره (سرخرگ‌ها / سیاهرگ‌ها) کاهش می‌دهد.</p> <p>پ) علت فشار بیشینه خون (انقباض بطن‌ها / دیواره کشسان سرخرگ‌ها) می‌باشد.</p> <p>ت) میزان کربن دی‌اکسید هوای بازدم از اکسیژن آن (کمتر / بیشتر) است.</p> <p>ث) هوای باقی‌مانده در بخش هادی دستگاه تنفس را (حجم باقی‌مانده / هوای مرده) می‌گویند.</p> <p>ج) در بخش (سرخرگی / سیاهرگی) مویرگ، فشار اسمزی درون مویرگ از فشار اسمزی بافت‌های اطراف آن بیشتر است.</p>	۲
۴	<p>هریک از جاهای خالی را با یکی از کلمات <u>همانند</u> یا <u>برخلاف</u> کامل کنید:</p> <p>الف) در غشای یاخته‌ای کربوهیدرات‌ها به مولکول‌های فسفولیپیدی پروتئینی، متصل‌اند.</p> <p>ب) در روده باریک روده بزرگ، جذب مواد انجام می‌شود.</p> <p>پ) در بعضی سیاهرگ‌ها سرخرگ‌ها، دریچه‌های لانه کبوتری وجود دارد.</p> <p>ت) بصل‌النخاع پل مغزی به ماهیچه میان‌بند (دیافراگم) پیام عصبی می‌فرستد.</p>	۱



باسمه تعالی

آزمون تشریحی مدارس سلام

(دوره دوم متوسطه)



مجموعه مدارس سلام

نام و نام خانوادگی:

مدرس:

کلاس:

مدت آزمون: ۹۰ دقیقه

پایه: دهم (رشته تجربی)

نام درس: زیست‌شناسی

تاریخ آزمون: ۱۴۰۰/۱۰/۱۹

صفحه ۲ از ۴

ردیف	سؤال	بارم
۵	<p>به سؤالات چهارگزینه‌ای زیر پاسخ صحیح دهید.</p> <p>(الف) چهارمین و ششمین سطح حیات در کدام گزینه به ترتیب (از راست به چپ) به درستی عنوان شده است؟ (۱) دستگاه - جاندار (۲) بافت - جمعیت (۳) دستگاه - جمعیت (۴) جاندار - اجتماع (ب) یک یاخته تبادلات اکسیژن خود را به طور مستقیم با انجام می‌دهد. (۱) خوناب (۲) لنف (۳) خون (۴) مایع میان یاخته‌ای (پ) غدد ترشحی در دیواره نای، در کدام لایه قرار دارد؟ (۱) پیوندی خارجی (۲) مخاط (۳) زیرمخاط (۴) ماهیچه‌ای - غضروفی (ت) کدام یک وارد روده بزرگ می‌شوند؟ (۱) مواد گوارش نیافته (۲) یاخته‌های مرده (۳) شیرهای گوارشی (۴) همه موارد</p>	۱
۶	<p>غلط‌های علمی عبارات زیر را پیدا کنید و هر کدام را با توجه به اطلاعات کتاب درسی اصلاح کنید.</p> <p>«هرچه تفاوت مولکول‌های آب در واحد حجم در دو سوی غشا بیشتر باشد، فشار اسمزی کمتر است و آب سریع‌تر جابه‌جا می‌شود. اما از آنجا که فشار اسمزی مایع اطراف یاخته‌ها تقریباً مشابه درون آنهاست، در نتیجه آبی به آن وارد نمی‌شود و یاخته‌ها از خطر تورم و ترکیدن حفظ می‌شوند.»</p>	۰/۵
۷	<p>بعضی موارد در <u>ستون الف</u> را به بعضی موارد در <u>ستون ب</u> متصل کنید. (به صورت یک به یک)</p> <p>ستون الف ۱- عامل داخلی معده ۲- گاسترین ۳- نایژه‌های اصلی ۴- نایژک‌ها ۵- ماکروفاژ ۶- سکرترین</p> <p>ستون ب الف) افزایش ترشح اسید معده ب) تنظیم مقدار هوای ورودی یا خروجی به دستگاه تنفس پ) آخرین راه دفاعی در دستگاه تنفس ت) کاهش کشش سطحی در حبابک‌ها ث) ویتامین B_{۱۲} ج) ریز شدن قطرات چربی</p>	۱
۸	<p>هریک از موارد خواسته شده را فقط نام ببرید.</p> <p>(الف) مولکول زیستی که پزشکی شخصی براساس آن انجام می‌شود: (ب) دو قسمت انتهایی معده گوسفند: (پ) رگ‌های لنفی با اتصال به کدام رگ‌ها، لنف را به خون می‌ریزند: (ت) گیرنده‌های مؤثر در حفظ فشار سرخرگی:</p>	۲



مرکز سنجش آموزش مدارس برتر

باسمه تعالی

آزمون تشریحی مدارس سلام

(دوره دوم متوسطه)

مدت آزمون: ۹۰ دقیقه

کلاس:

پایه: دهم (رشته تجربی)



مجموعه مدارس سلام

نام و نام خانوادگی:

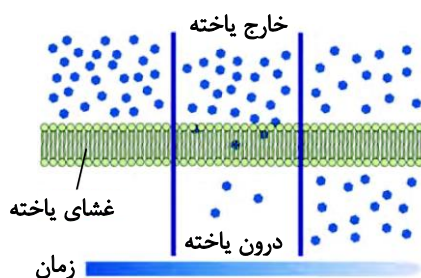
مدرسه:

نام درس: زیست‌شناسی

تاریخ آزمون: ۱۴۰۰/۱۰/۱۹

صفحه ۳ از ۴

ردیف	سؤال	بارم
۹	<p>الف) پاسخ به محیط و سازش با محیط از جمله ویژگی‌های هفت‌گانه حیات هستند، تفاوت آنها را با ذکر مثال توضیح دهید.</p> <p>ب) دو نقش مایع میان پیراشامه و برون‌شامه را بنویسید.</p> <p>پ) افزایش دی‌اکسیدکربن بر قطر سرخرگ‌ها چه تأثیری دارد؟ توضیح دهید.</p> <p>ت) فرمول تنفس یاخته‌ای را بنویسید.</p>	۲
۱۰	<p>برای هر یک از موارد زیر یک علت علمی بنویسید.</p> <p>الف) در بیماری سلپاک بسیاری از مواد مغذی مورد نیاز جذب نمی‌شود.</p> <p>ب) سیاهرگ باب خون بخش‌هایی از لوله گوارش را به کبد می‌برد.</p> <p>پ) کمترین دستکاری در بینی می‌تواند منجر به خونریزی در آن شود.</p> <p>ت) بیشتر سرخرگ‌های بدن در قسمت‌های عمقی هر اندام قرار گرفته‌اند.</p>	۲
۱۱	<p>با توجه به شکل زیر به سؤالات زیر پاسخ دهید:</p> <p>الف) این شکل کدام روش انتقال مواد از غشای یاخته را نشان می‌دهد؟</p> <p>ب) یک مولکول را نام ببرید که با این روش منتقل می‌شود.</p>	۵/۰





مرکز سنجش آموزش مدارس برتر

باسمه تعالی

آزمون تشریحی مدارس سلام

(دوره دوم متوسطه)

مدت آزمون: ۹۰ دقیقه

کلاس:

پایه: دهم (رشته تجربی)



مجموعه مدارس سلام

نام و نام خانوادگی:

مدرسه:

نام درس: زیست‌شناسی

تاریخ آزمون: ۱۴۰۰/۱۰/۱۹

صفحه ۴ از ۴

ردیف	سؤال	بارم
۱۲	در شکل زیر موارد خواسته شده را به طور دقیق نشان دهید. (الف) حجم باقی‌مانده (ب) حجم ذخیره دمی	۰/۵
۱۳	هریک از موارد خواسته شده در سؤال را با استفاده از حروف مربوط به آنها در شکل زیر مشخص کنید. (الف) بخش دارای ساختار دندانهای (ب) محل جذب مواد غذایی	۰/۵
۱۴	(الف) دو راه تشخیص سطح جلویی و پشتی نای را بنویسید. (ب) تأثیر لوگول بر محلول حاوی نشاسته و بزاق را شرح دهید. (پ) دو معرف کربن دی‌اکسید را نام ببرید و تغییر رنگ هریک را بنویسید. (ت) در برش شش گوسفند چگونه مقطع سرخرگ را شناسایی می‌کنید. (ث) یک مزیت و یک زیان سوخت فسیلی را نسبت به سوخت زیستی بنویسید.	۳
	جمع بarm	۲۰



باسمه تعالی

پیش آزمون تشریحی مدارس سلام

س ل م
مجموعه مدارس سلام

نام و نام خانوادگی:

مدرسه:

کلاس:

مدت آزمون: ۹۰ دقیقه

پایه: دهم (رشته تجربی)

نام درس: زیست‌شناسی

تاریخ آزمون: دی ماه ۱۴۰۰

صفحه ۱ از ۲

ردیف	سؤال	بارم																				
۱	درست یا نادرست بودن جملات زیر را مشخص کنید: الف) کلسترول در همه غشاهای زیستی شرکت دارد. ب) صفرا در جلوگیری از زخم دوازدهه نقش دارد. پ) شیر روده برخلاف صفرا حاوی آنزیم است. ت) بخش‌های مبادله‌ای دستگاه تنفس برخلاف بخش‌های هادی، فاقد مخاط مژکدار می‌باشند.	۱																				
۲	جاهای خالی را با کلمات مناسب کامل کنید. الف) مراکز تنفسی در دو ناحیه مغزی به نام های و قرار گرفته است. ب) سرخرگ‌های کرونری از منشأ می‌گیرند. پ) دی‌ساکاریدی به نام به قند شیر معروف است.	۱																				
۳	جدول زیر مربوط به تقسیم‌بندی انواع ماهیچه‌های موجود در انسان است و به جای علامت‌های سؤال از واژه‌ها و عبارات صحیح استفاده کنید: <table><tr><td>نوع ماهیچه</td><td>قلبی</td><td>صاف</td><td>اسکلتی</td></tr><tr><td>تعداد هسته</td><td>؟</td><td>۱</td><td>چند هسته ای</td></tr><tr><td>وضعیت شروع انقباض</td><td>غیر ارادی</td><td>غیر ارادی</td><td>ارادی / غیر ارادی</td></tr><tr><td>شکل یاخته ها</td><td>؟</td><td>؟</td><td>استوانه ای</td></tr><tr><td>ظاهر ماهیچه</td><td>؟</td><td>صاف</td><td>مخطط</td></tr></table>	نوع ماهیچه	قلبی	صاف	اسکلتی	تعداد هسته	؟	۱	چند هسته ای	وضعیت شروع انقباض	غیر ارادی	غیر ارادی	ارادی / غیر ارادی	شکل یاخته ها	؟	؟	استوانه ای	ظاهر ماهیچه	؟	صاف	مخطط	۲
نوع ماهیچه	قلبی	صاف	اسکلتی																			
تعداد هسته	؟	۱	چند هسته ای																			
وضعیت شروع انقباض	غیر ارادی	غیر ارادی	ارادی / غیر ارادی																			
شکل یاخته ها	؟	؟	استوانه ای																			
ظاهر ماهیچه	؟	صاف	مخطط																			
۴	الف) نحوه ترشح و فعال شدن پروتئازهای معده را توضیح دهید. ب) اجزای صفرا را فقط نام ببرید. پ) بخش‌های مختلف روده بزرگ را به ترتیب نام ببرید.	۲/۵																				
۵	کلمات زیر را تعریف کنید: الف) خون تیره ب) بخش‌های دستگاه تنفس پ) نایژک ت) حجم ضربه‌ای ث) حجم جاری	۲/۵																				
۶	الف) ویژگی‌های دو صدای قلب را بنویسید. ب) هریک از این صداها مربوط به کدام پدیده در قلب است؟	۱/۵																				



باسمه تعالی

پیش آزمون تشریحی مدارس سلام

(دوره دوم متوسطه)

س ل م
مجموعه مدارس سلام

نام و نام خانوادگی:

مدرسه:

کلاس:

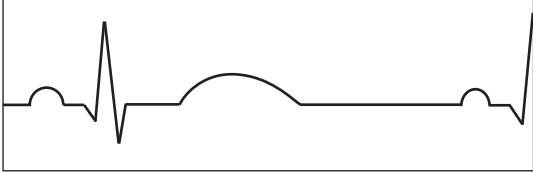
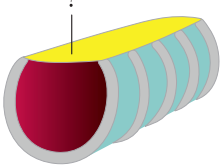
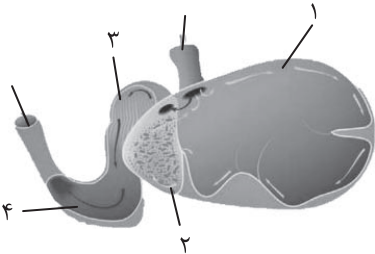
مدت آزمون: ۹۰ دقیقه

پایه: دهم (رشته تجربی)

نام درس: زیست‌شناسی

تاریخ آزمون: دی ماه ۱۴۰۰

صفحه ۲ از ۲

ردیف	سؤال	بارم
۷	الف) بخش‌های مختلف این نوار قلب را نامگذاری کنید. ب) نوع مویرگ‌های دستگاه عصبی مرکزی و کلیه را نام ببرید. پ) فشار تراوشی در کدام سمت مویرگ بیشتر است؟ 	۲
۸	برای هریک از موارد زیر دو نقش بنویسید. الف) صفرا ب) کلسترول	۱
۹	اهمیت وجود هریک از موارد زیر را بنویسید. الف) بافت پیوندی بین دهلیزها و بطن‌ها ب) مایع جنب	۱
۱۰	الف) حفره‌های معده چگونه تشکیل می‌شوند؟ ب) آیا انتقال ژن مربوط به انیدراز کربنیک از یک مرد به یک زن، مهندسی ژنتیک نام دارد؟ توضیح دهید. پ) چگونه می‌توان بدون آسیب به درون تخم‌مرغ، پوسته آهکی آن را از بین برد؟	۱/۵
۱۱	برای هریک از موارد زیر یک علت علمی بنویسید. الف) دیواره بطن چپ قطورتر از بطن راست است. ب) پرندگان دارای کیسه‌های هوادار هستند. پ) پیام انقباض و استراحت به سرعت بین یاخته‌های ماهیچه قلب منتشر می‌شود. ت) غشای پایه در مویرگ‌های منفذدار ضخیم است.	۲
۱۲	با توجه به شکل به سؤالات زیر پاسخ دهید: الف) نام اندام؟ ب) علامت سؤال به سمت کدام اندام می‌باشد. 	۱
۱۳	در شکل زیر موارد خواسته شده را با عدد مربوط به آن مشخص کنید. الف) محل استقرار آنزیم‌های گوارشی: ب) معده واقعی: 	۱
	جمع بارم	۲۰



باسمه تعالی

پیش آزمون تشریحی هماهنگ دی ماه

(دوره دوم متوسطه)

نام و نام خانوادگی:

مدت آزمون: ۸۰ دقیقه

کلاس:

مدرسه:

تاریخ آزمون: دی ماه ۱۴۰۲

نام درس: زیست شناسی (سری ۱) پایه: دهم (رشته تجربی)

صفحه ۱ از ۴

ردیف	سؤال	بارم
۱	<p>درستی یا نادرستی عبارت های زیر را مشخص کنید.</p> <p>الف) در مهندسی ژنتیک تنها امکان انتقال ژن بین جانوران وجود دارد.</p> <p>ب) آغازیان برخلاف جانوران گرما تولید نمی کنند.</p> <p>ج) عملکرد آمیلاز در دهان منجر به مصرف آب می شود.</p> <p>د) در سلول های کبد واکنش آبکافت می تواند رخ دهد.</p> <p>ه) حجم ضربه ای مقدار خونی است که در هر انقباض از قلب خارج می شود.</p> <p>و) در هوای بازدمی میزان اکسیژن بیشتر از دی اکسید کربن است.</p> <p>ز) ضخامت دیواره بطن چپ از بطن راست بیشتر است.</p> <p>ح) حفره گوارشی در جانوری مانند هیدر فقط یک سوراخ برای ورود و خروج مواد دارد.</p>	۲
۲	<p>به هر یک از سوالات زیر پاسخ کوتاه دهید.</p> <p>الف) کدام مولکول زیستی در غشاء سلول جوانه گندم وجود ندارد؟</p> <p>ب) شروع کننده حرکات کرمی چه عاملی است؟</p> <p>ج) سیاهرگ باب کدام یک از مواد سازنده LDL را با خود به کبد نمی آورد؟</p> <p>د) غده های ترشحاتی در کدام لایه نای دیده می شود؟</p> <p>ه) برای ثبت ظرفیت حیاتی در اسپروگرام کدام ماهیچه های تنفسی در استراحت هستند؟ (دو مورد)</p> <p>و) بزرگ ترین غده بزاقی چه نام دارد؟</p> <p>ز) ویژگی کشسانی شش ها در کدام فرآیند تنفس، نقش مهمی دارد؟</p> <p>ح) کنترل مقدار هوای ورودی و خروجی به دستگاه تنفس بر عهده کدام بخش از مجاری دستگاه تنفس است؟</p>	۴
۳	<p>جاهای خالی را با کلمات مناسب پر کنید.</p> <p>الف) زیست بوم از چند تشکیل شده است.</p> <p>ب) یاخته های پوششی مخاط معده در بافت زیرین فرو رفته اند و حفره های معده را به وجود می آورند.</p> <p>ج) یکی از راه های افزایش کمیت و کیفیت غذای انسان، شناخت روابط گیاهان و است.</p> <p>د) یاخته های اصلی بافت عصبی نام دارند.</p> <p>ه) پلی ساکراید ذخیره ای در قارچ ها و پلی ساکراید ساختاری در گیاهان است.</p> <p>و) بین دهلیز و بطن چپ، دریچه وجود دارد و دریچه های از بازگشت خون به بطن ها جلوگیری می کنند.</p>	۲



باسمه تعالی

پیش آزمون تشریحی هماهنگ دی ماه

(دوره دوم متوسطه)

نام و نام خانوادگی:

مدت آزمون: ۸۰ دقیقه

کلاس:

مدرس:

تاریخ آزمون: دی ماه ۱۴۰۲

صفحه ۲ از ۴

نام درس: زیست شناسی (سری ۱) پایه: دهم (رشته تجربی)

ردیف	سؤال	بارم
۴	<p>در هر یک از سوالات زیر گزینه درست را انتخاب کنید.</p> <p>الف) کدام گزینه درباره علوم تجربی به درستی بیان شده است؟</p> <p>(۱) علوم تجربی می تواند به همه پرسش های ما پاسخ دهد.</p> <p>(۲) مشاهده، اساس علوم تجربی است.</p> <p>(۳) پژوهشگران علوم تجربی می توانند درباره ارزش های هنری و ادبی نظر بدهند.</p> <p>(۴) دانشمندان علوم تجربی فقط در جست و جوی علت های پدیده های طبیعی و غیرقابل مشاهده هستند.</p> <p>ب) در لوله گوارش اندامی که و مجاور آن قرار دارد، گوارش شیمیایی انجام نمی شود.</p> <p>(۱) گوسفند - بعد از هزارلا</p> <p>(۲) گاو - قبل از نگاری</p> <p>(۳) ملخ - قبل از پیش معده</p> <p>(۴) پرند دانه خوار - بعد از چینه دان</p> <p>ج) کدام یک از گزینه های زیر در شیرۀ معده یافت نمی شود؟</p> <p>(۱) اسید معده</p> <p>(۲) فاکتور داخلی معده</p> <p>(۳) بی کربنات</p> <p>(۴) گاسترین</p> <p>د) کدام مورد در دم عمیق، دارای نقش اصلی است؟</p> <p>(۱) مسطح شدن ماهیچه دیافراگم</p> <p>(۲) انقباض ماهیچه های شکمی</p> <p>(۳) افزایش حجم قفسه سینه</p> <p>(۴) انقباض ماهیچه های بین دنده ای خارجی</p>	۲
۵	<p>برای هر یک از توضیحات زیر یک واژه مناسب عنوان کنید.</p> <p>الف) عبور زندگی جاندار از یک مرحله به مرحله بعد.</p> <p>ب) عوامل زنده و غیرزنده محیط و تأثیرهایی که بر هم می گذارند.</p> <p>ج) اندامی که انرژی لازم برای فرآیند برون رانی سلول را تأمین می کند.</p> <p>د) پلی مری که فقط در سطوح خارجی غشا دیده می شود.</p>	۱
۶	<p>عبارت مناسب را از داخل پرانتز انتخاب کنید.</p> <p>الف) ساکارز (همانند / برخلاف) سلولز یک دی ساکارید است.</p> <p>ب) بندارهایی که در تنظیم عبور مواد در لوله گوارش نقش دارند، از نوع ماهیچه (حلقوی / طولی) هستند.</p> <p>ج) جذب و ترشح در لوله گوارش به عهده یاخته های لایه (ماهیچه / مخاط) می باشد.</p> <p>د) اگر تخم مرغ بدون پوستۀ آهکی را در آب نمک غلیظ قرار دهیم، تخم مرغ (متورم / چروکیده) می شود.</p> <p>ه) در رودۀ باریک در نتیجۀ فعالیت (پپسین / پروتئازهای لوزالمعده) و آنزیم های رودۀ باریک، پروتئین ها به آمینو اسید، تجزیه می شوند.</p> <p>و) در بخش مبادله ای دستگاه تنفس، مخاط مژک دار وجود (دارد / ندارد).</p> <p>ز) تنفس ششی در جانوران بی مهره مشاهده (نمی شود / می شود).</p> <p>ح) بین سرخرگ ششی و آئورت رابطی از جنس بافت پیوندی وجود (دارد / ندارد).</p>	۲



باسمه تعالی

پیش آزمون تشریحی هماهنگ دی ماه

(دوره دوم متوسطه)

نام و نام خانوادگی:

تاریخ آزمون: دی ماه ۱۴۰۲

مدت آزمون: ۸۰ دقیقه

کلاس:

مدرسه:

صفحه ۴ از ۴

پایه: دهم (رشته تجربی)

نام درس: زیست شناسی (سری ۱)

ردیف	سؤال	بارم								
۱۱	جدول زیر را کامل کنید.	۰/۷۵								
	<table><tr><th>نام بافت</th><th>مثال</th></tr><tr><td>سنگفرشی تک لایه</td><td>الف)</td></tr><tr><td>ب)</td><td>۴- لایه بیرونی لوله گوارش</td></tr><tr><td>۵- ماهیچه صاف</td><td>ج)</td></tr></table>	نام بافت	مثال	سنگفرشی تک لایه	الف)	ب)	۴- لایه بیرونی لوله گوارش	۵- ماهیچه صاف	ج)	
نام بافت	مثال									
سنگفرشی تک لایه	الف)									
ب)	۴- لایه بیرونی لوله گوارش									
۵- ماهیچه صاف	ج)									
		</								



باسمه تعالی

پیش آزمون تشریحی هماهنگ دی ماه

(دوره دوم متوسطه)

نام و نام خانوادگی:

مدت آزمون: ۸۰ دقیقه

کلاس:

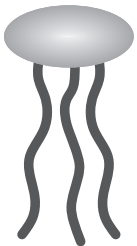
مدرسه:

تاریخ آزمون: دی ماه ۱۴۰۲

صفحه ۱ از ۲

نام درس: زیست شناسی (سری ۲) پایه: دهم (رشته تجربی)

ردیف	سؤال	بارم
۱	<p>درستی یا نادرستی عبارتهای زیر را مشخص کنید.</p> <p>(الف) در سیب زمینی دو نوع پلی ساکارید وجود دارد.</p> <p>(ب) چند سلول ماهیچه ای به طور همزمان نمی توانند از یک نورون پیام دریافت کنند.</p> <p>(ج) گوارش درون سلولی تنها در پرسلولی ها دیده نمی شود.</p> <p>(د) ظرفیت تام مجموع چهار حجم است.</p> <p>(ه) افرادی که میزان LDL در آنها بالاست، بیشتر در معرض تولید سنگ های صفرا قرار می گیرند.</p> <p>(و) ترشحات مخاطی در نایژک مبادله ای، آخرین خط دفاعی بخش مبادله ای هستند.</p> <p>(ز) انقباض ماهیچه های گردن در افزایش حجم ذخیره بازدمی نقش کمکی دارند.</p> <p>(ح) محلول برم تیمول بلو رقیق که معرف کربن دی اکسید است در مجاورت این گاز، بی رنگ می شود.</p>	۲
۲	<p>به هر یک از سوالات زیر پاسخ کوتاه دهید.</p> <p>(الف) ماده زمینه ای کدام بافت پیوندی جامد است؟</p> <p>(ب) شروع گوارش شیمیایی گلوتن از کجاست؟</p> <p>(ج) در پارامسی مونومرها از کدام واکوئل وارد ماده زمینه ای سیتوپلاسم می شوند؟</p> <p>(د) کدام معرف در حضور دی اکسید کربن زرد رنگ می شود؟</p> <p>(ه) در انسان، دی اکسید کربن محلول در خوناب جهت خروج از خون و ورود به محیط خارجی از چند لایه سلول عبور می کند؟</p> <p>(و) کدام بخش از دستگاه گوارش، پروتئازهای قوی و متنوع ترشح می کند؟</p> <p>(ز) کدام یک از حجم های تنفسی با انقباض عضلات شکم همراه است؟</p> <p>(ح) ساده ترین نوع آبشش را در کدام جاندار می توان مشاهده کرد؟</p>	۴
۳	<p>جاهای خالی را با کلمات مناسب پر کنید.</p> <p>(الف) پروتئین ها از به هم پیوستن واحدهایی به نام تشکیل شده اند.</p> <p>(ب) در دوازدهه کیموس را خنثی می کند.</p> <p>(ج) زیاد بودن لیپوپروتئین ، احتمال رسوب کلسترول در دیواره سرخرگ ها را افزایش می دهد.</p> <p>(د) هوای دمی، اکسیژن بیشتری دارد، اما در هوای بازدمی، کربن دی اکسید نسبت به بیشتر است.</p> <p>(ه) یاخته های ماهیچه مخطط برخلاف ماهیچه قلبی اغلب به شکل منقبض می شوند.</p> <p>(و) تنظیم عصبی دستگاه گوارش را دستگاه عصبی انجام می دهد.</p> <p>(ز) افزایش خون از عوامل مؤثر در تنظیم تنفس است.</p> <p>(ح) گره پیشاهنگ در قرار دارد.</p>	۲
۴	<p>در هر یک از سوالات زیر گزینه درست را انتخاب کنید.</p> <p>(الف) درباره شکل روبه رو کدام عبارت درست عنوان شده است؟</p> <p>(۱) بخش اصلی تشکیل دهنده غشای یاخته ای است.</p> <p>(۲) عنصرهای تشکیل دهنده این مولکول مشابه فروکتوز است.</p> <p>(۳) این مولکول همانند نوکلئیک اسید، فسفر دارد.</p> <p>(۴) منبع ذخیره کربوهیدرات در جانوران است.</p> <p>(ب) کدام گزینه در رابطه با یاخته های ماهیچه ای موجود در لایه ماهیچه ای بنداره داخلی مخرج درست است؟</p> <p>(۱) ظاهر دوکی شکل دارند.</p> <p>(۲) از نظر ظاهر مشابه یاخته های ماهیچه ای قلبی هستند.</p> <p>(۳) بیش از یک هسته دارند.</p> <p>(۴) به صورت ارادی منقبض و منبسط می شوند.</p> <p>(ج) کولون پایین رو در روده بزرگ به کدام قسمت منتهی می شود؟</p> <p>(۱) آپاندیس</p> <p>(۲) راست روده</p> <p>(۳) روده کور</p> <p>(۴) مخرج</p> <p>(د) در شروع ، صدای قلب انسان شنیده می شود.</p> <p>(۱) دیاستول دهلیزها - دوم</p> <p>(۲) سیستول بطنها - اول</p> <p>(۳) سیستول دهلیزها - دوم</p> <p>(۴) دیاستول بطنها - اول</p>	۲





باسمه تعالی

پیش آزمون تشریحی هماهنگ دی ماه

(دوره دوم متوسطه)

نام و نام خانوادگی:

مدت آزمون: ۸۰ دقیقه

کلاس:

مدرس:

تاریخ آزمون: دی ماه ۱۴۰۲

نام درس: زیست شناسی (سری ۲) پایه: دهم (رشته تجربی)

صفحه ۲ از ۲

ردیف	سؤال	بارم
۵	برای هر یک از توضیحات زیر یک واژه مناسب عنوان کنید. (الف) با بررسی اطلاعاتی که روی ژن های هر فرد وجود دارد روش های درمانی و دارویی خاص هر فرد را طراحی می کنند. (ب) مولکول های انقباضی در ماهیچه از این نوع مولکول های زیستی هستند. (ج) یاخته های بافت پوششی را به یکدیگر و به بافت های زیر آن متصل می کند. (د) پیام عصبی از طریق این بخش از نورون به جسم یاخته ای همان نورون می رسد.	۱
۶	عبارت مناسب را از داخل پرانتز انتخاب کنید. (الف) در زردپی و رباط بافت پیوندی (سست / متراکم) وجود دارد. (ب) خارجی ترین لایه ماهیچه ای در معده به شکل (مورب / حلقوی / طولی) قرار دارد. (ج) یاخته های نوع (یک / دو) دیواره حبابک، در کاهش نیروی کشش سطحی آب نقش دارند. (د) عبور از مرحله ای به مرحله دیگر زندگی (نمو / رشد) نام دارد. (ه) تداوم حرکات (قطعه قطعه کننده / کرمی) در لوله گوارش موجب می شود محتویات لوله، ریزتر شوند. (و) هورمون (سکرتین / گاسترین) از دوازدهه به (لوزالمعده / خون) می ریزد و باعث (کاهش / افزایش) میزان pH روده باریک می گردد.	۲
۷	در مورد سطوح سازمان یابی حیات به سوالات زیر پاسخ دهید. (الف) جمعیت را تعریف کنید. (ب) دستگاه حرکتی از چه بخش هایی تشکیل شده است؟	۱
۸	با توجه به مراحل چرخه قلبی به سوالات زیر پاسخ دهید. (الف) در کدام مرحله دریچه های سه لختی و دولختی باز هستند؟ (ب) مدت زمان بسته بودن دریچه های سینی چقدر است؟ (ج) مدت زمان ورود خون به بطن ها چقدر است؟ (د) زمان ثبت موج T را بیان کنید.	۱
۹	بافت پیوندی از چه بخش هایی تشکیل شده است؟	۰/۷۵
۱۰	(الف) چه موادی می توانند وارد روده بزرگ شوند؟ (ب) کدام یک از کولون ها از همه بلندتر است؟	۱
۱۱	(الف) با توجه به اطلاعات فصل ۳، هموگلوبین در مجموع چند نوع گاز را می تواند حمل کند؟ نام ببرید. (ب) هموگلوبین چند نوع جایگاه اتصال به گازها را دارد؟	۱/۵
۱۲	در متن زیر، مطالبی که از نظر علمی نادرست هستند را بیابید و آنها را اصلاح نمایید. «در بخش هادی دستگاه تنفس، نایژه ها به علت نداشتن غضروف می توانند تنگ و گشاد شوند. این ویژگی، به دستگاه تنفس امکان می دهد تا مقدار هوای خروجی را تنظیم کند. در بخش مبادله ای دستگاه تنفس، لایه نازکی از آب، سطحی از حبابک را که در تماس با محیط داخلی بدن است پوشانده است؛ بنابراین مقاومت حبابک در برابر باز شدن، به علت وجود نیروی کشش سطحی آب کاهش می یابد. سورفاکتانت که از بعضی یاخته های مجاری تنفسی ترشح می شود، باز شدن حبابک ها را آسان تر می کند.»	۱
۱۳	(الف) وظیفه دریچه های سینی قلب را بنویسید. (ب) محل قرارگیری دو ورودی سرخرگ های کرونری کجاست؟	۰/۷۵
	جمع بarm	۲۰



باسمه تعالی

آزمون تشریحی هماهنگ دی ماه

(دوره دوم متوسطه)

مدت آزمون: ۸۰ دقیقه

کلاس:

نام و نام خانوادگی:

مدرس:

نام درس: زیست شناسی

پایه: دهم (رشته تجربی)

صفحه ۱ از ۴

ردیف	سوال	بارم
۱	<p>درستی یا نادرستی عبارات زیر را مشخص کنید.</p> <p>(الف) عوامل زنده (اجتماع) و غیرزنده محیط و تأثیرهایی که بر هم می گذارند، زیست بوم را می سازند. <input type="checkbox"/> درست <input type="checkbox"/> نادرست</p> <p>(ب) هر چه تفاوت تعداد مولکول های آب در واحد حجم، در دو سوی غشا بیشتر باشد، فشار اسمزی بیشتر است و آب کندتر جابه جا می شود. <input type="checkbox"/> درست <input type="checkbox"/> نادرست</p> <p>(ج) حفاظت دیواره مری کمتر از معده و بیشتر از روده باریک است. <input type="checkbox"/> درست <input type="checkbox"/> نادرست</p> <p>(د) هر پروتئینی که از غدد بزاقی ترشح می شود دارای نقش آنزیمی است. <input type="checkbox"/> درست <input type="checkbox"/> نادرست</p> <p>(ه) شبکه های عصبی روده ای می توانند مستقل از دستگاه عصبی خودمختار، فعالیت کنند و دستگاه عصبی خودمختار بر عملکرد آنها تأثیری ندارد. <input type="checkbox"/> درست <input type="checkbox"/> نادرست</p> <p>(و) بازدم عادی با استراحت ماهیچه های بین دنده ای داخلی آغاز می شود. <input type="checkbox"/> درست <input type="checkbox"/> نادرست</p> <p>(ز) مخاط مژکدار به طور پیوسته در سرتاسر بخش هادی دستگاه تنفس دیده می شود. <input type="checkbox"/> درست <input type="checkbox"/> نادرست</p> <p>(ح) رشته های پیوندی متصل به دریچه سمت راست قلب بیشتر از رشته های پیوندی متصل به دریچه سمت چپ قلب می باشند. <input type="checkbox"/> درست <input type="checkbox"/> نادرست</p>	۲
۲	<p>جاهای خالی را با کلمات مناسب پر کنید.</p> <p>(الف) در بافت پیوندی متراکم، میزان رشته های کلاژن از بافت پیوندی سست است.</p> <p>(ب) زیست بوم از چند بوم سازگان تشکیل می شود که از نظر اقلیم و مشابه اند.</p> <p>(ج) برای ورود ویتامین B_{۱۲} به یاخته های روده باریک ضروری است.</p> <p>(د) چین خوردگی های میکروسکوپی غشای یاخته های پوششی روده باریک، نام دارد.</p> <p>(ه) به بخشی از هوای دمی که در بخش هادی دستگاه تنفس می ماند و به بخش مبادله ای نمی رسد، می گویند.</p> <p>(و) از ترکیب آب و کربن در اکسید توسط آنزیم ابتدا کربنیک اسید ساخته می شود.</p> <p>(ز) ضخامت دیواره بطن راست از بطن چپ است.</p> <p>(ح) صدای اول قلب، به بسته شدن دریچه های دولختی و سه لختی هنگام شروع انقباض مربوط است.</p>	۲
۳	<p>عبارت مناسب را از داخل پرانتز انتخاب کنید.</p> <p>(الف) در روش (انتشار تسهیل شده / انتشار ساده) پروتئین های غشا، مواد را در جهت شیب غلظت از غشا عبور می دهند.</p> <p>(ب) داخلی ترین لایه ماهیچه ای در معده به شکل (حلقوی / مورب) قرار دارد.</p> <p>(ج) یاخته های پوششی مخاط معده در بافت (ماهیچه ای / پیوندی) زیرین فرو رفته اند و حفره های معده را به وجود می آورند.</p> <p>(د) مقدار حجم های تنفسی در فرد سالم به سن و (جنس / متابولیسم) او بستگی دارد.</p> <p>(ه) افزایش کربن دی اکسید و (کاهش مونوکسید کربن / کاهش اکسیژن) خون، از عوامل مؤثر در تنظیم تنفس اند.</p> <p>(و) پرندگان علاوه بر شش، دارای ساختارهایی به نام (کیسه های هوادار / کیسه های هوایی) هستند که کارایی تنفس آنها را نسبت به سایر پستانداران افزایش می دهد.</p> <p>(ز) انشعاب سمت راست سرخرگ ششی از (پشت / جلو) قوس آئورت عبور می کند.</p> <p>(ح) دریچه (سینی آئورت / سینی ششی) جلویی ترین دریچه قلبی است.</p>	۲



مرکز نخبش آموزش مدارس برتر

باسمه تعالی

آزمون تشریحی هماهنگ دی ماه

(دوره دوم متوسطه)

مدت آزمون: ۸۰ دقیقه

کلاس:

پایه: دهم (رشته تجربی)

نام و نام خانوادگی:

مدرسه:

نام درس: زیست شناسی

صفحه ۲ از ۴

ردیف	سوال	بارم
۴	<p>برای هریک از عبارت‌های زیر دلیل علمی بنویسید.</p> <p>(الف) نایژه اصلی راست زودتر از نایژه اصلی چپ منشعب می‌شود.</p> <p>(ب) در لوله آزمایش حاوی نشاسته، بزاق و لوگول تغییر رنگی مشاهده نمی‌شود.</p> <p>(ج) میزان چین‌خوردگی‌های مخاط روده باریک بیشتر از مری است.</p> <p>(د) لیپیدها علاوه بر کربن، هیدروژن و اکسیژن دارای عناصر دیگری نیز می‌باشند.</p>	۲
۵	<p>با توجه به شکل، به سوالات زیر پاسخ دهید.</p> <p>(الف) جهت حرکت آب به کدام سمت است؟</p> <p>(ب) فشار اسمزی کدام قسمت بیشتر است؟</p> <p>(ج) آیا جابه‌جایی آب با مصرف انرژی زیستی انجام می‌شود؟</p> <p>(د) کدام قسمت تخم‌مرغ دارای نفوذپذیری انتخابی است؟</p>	۱
۶	<p>در ارتباط با فصل اول کتاب درسی به سوالات زیر پاسخ دهید.</p> <p>(الف) دو وظیفه بافت چربی را بنویسید.</p> <p>(ب) قند ذخیره‌ای جانوران چه نام دارد؟ نام واحدهای سازنده آن را ذکر کنید.</p> <p>(ج) محل قرارگیری انواع شبکه آندوپلاسمی را نسبت به هسته با هم مقایسه کنید.</p> <p>(د) در فرآیند انتشار ساده چه نوع انرژی دخالت دارد؟</p>	۱/۷۵
۷	<p>بیماری سلیاک به چه دلیل به وجود می‌آید و چه آسیبی به بدن وارد می‌کند؟</p>	۱
۸	<p>با توجه به شکل زیر، به پرسش‌ها پاسخ دهید.</p> <p>(الف) کدام شماره در جذب مواد غذایی نقش اصلی را دارد؟</p> <p>(ب) وظیفه بخش شماره (۴) چیست؟</p> <p>(ج) نام بخش‌های شماره‌های (۳) و (۵) چیست؟</p>	۱
۹	<p>با توجه به شکل روبه‌رو، موارد خواسته‌شده را پاسخ دهید.</p> <p>(الف) ماده‌ای که لایه ژله‌ای حفاظتی را قلیایی می‌کند از سلول‌های کدام بخش ترشح می‌شود؟</p> <p>(ب) بخش شماره (۵) و سلول‌های شماره (۱) را نام‌گذاری کنید.</p> <p>(ج) ماده‌ای که پپسینوژن غیرفعال را به پپسین تبدیل می‌کند، از کدام یک از سلول‌ها ترشح می‌شود؟</p>	۱



مرکز بخش آموزش مدارس برتر

باسمه تعالی

آزمون تشریحی هماهنگ دی ماه

(دوره دوم متوسطه)

مدت آزمون: ۸۰ دقیقه

کلاس:

پایه: دهم (رشته تجربی)

نام و نام خانوادگی:

مدرسه:

نام درس: زیست‌شناسی

صفحه ۳ از ۴

بارم	سوال	ردیف
۰/۷۵	<p>در مورد کولون‌ها به سوالات زیر پاسخ دهید.</p> <p>(الف) موقعیت ابتدا و انتهای کولون افقی را از نظر بالا و پایین بودن با هم مقایسه کنید.</p> <p>(ب) اصلی‌ترین ماده ترش‌ی توسط یاخته‌های پوششی کولون‌ها را نام ببرید.</p>	۱۰
۰/۵	<p>در مورد دستگاه گوارش نشخوارکنندگان به سوالات زیر پاسخ دهید.</p> <p>(الف) محل اصلی گوارش میکروبی کدام بخش است؟</p> <p>(ب) بیشترین میزان جذب آب در کدام بخش از معده چهار قسمتی صورت می‌گیرد؟</p>	۱۱
۱	<p>با توجه به نمودار اسپیروگرام به سوالات زیر پاسخ دهید.</p> <p>(الف) در فاصله A – B کدام ماهیچه‌ها منقبض است؟</p> <p>(ب) در کدام فاصله ماهیچه‌های شکمی منقبض هستند؟</p> <p>(ج) شکل ماهیچه دیافراگم در فاصله B – C چگونه است؟</p> <p>(د) فاصله بین D – E جزء کدام حجم است؟</p>	۱۲
۰/۵	چرا در تشریح شش، برش نایژه‌های اصلی از نای مشکل‌تر است؟	۱۳
۰/۵	دو وظیفه حنجره را بنویسید.	۱۴
۰/۲۵	گره پیشاهنگ در شبکه هادی قلب به طور دقیق در چه نقطه‌ای از قلب واقع شده است؟	۱۵
۱	<p>با توجه به شکل زیر که مراحل چرخه ضربان قلب را نشان می‌دهد، به پرسش‌های زیر پاسخ دهید.</p> <p>(الف) وضعیت دریچه‌های قلبی را در شماره (۳) مشخص نمایید.</p> <p>(ب) دهلیزها در شماره (۲) از نظر فعالیت (سیستول یا دیاستول) در چه حالتی هستند؟</p> <p>(ج) شروع موج P نوار قلبی در کدام شماره است؟</p>	۱۶



باسمه تعالی

آزمون تشریحی هماهنگ دی ماه

(دوره دوم متوسطه)

مدت آزمون: ۸۰ دقیقه

کلاس:

پایه: دهم (رشته تجربی)

نام و نام خانوادگی:

مدرسه:

نام درس: زیست شناسی

صفحه ۴ از ۴

ردیف	سوال	بارم
۱۷	برم تیمول بلو بدون حضور و پس از حضور CO_2 به چه رنگی دیده می شود؟	۰/۵
۱۸	در ارتباط با شش گوسفند به سوالات زیر پاسخ دهید. الف) دو روش تشخیص سطح جلویی و عقبی نای را ذکر کنید. ب) پس از برش تکه ای از شش، نایژه ها و سیاهرگ ها را از چه طریقی متمایز می کنند؟	۱
۱۹	در مورد قلب گوسفند، چه ساختارهایی از سطح پشتی به وضوح قابل دیدن است؟	۰/۲۵
	جمع بarm	۲۰



باسمه تعالی

پیش آزمون تشریحی هماهنگ دی ماه

(دوره دوم متوسطه)

نام و نام خانوادگی:

مدت آزمون: ۹۰ دقیقه

کلاس:

مدرس:

تاریخ آزمون: دی ماه ۱۴۰۳

پایه: دهم (رشته تجربی)

نام درس: زیست شناسی

صفحه ۱ از ۴

ردیف	سؤال	بارم
۱	<p>درست یا نادرست بودن گزاره های زیر را مشخص کنید.</p> <p>(الف) در سطوح سازمان یابی حیات، عوامل غیرزنده از سطح هشتم دیده می شود.</p> <p>(ب) زیر واحد اغلب آنزیم ها، آمینو اسیدها هستند.</p> <p>(ج) همه سلول ها می توانند از طریق آندوسیتوز و اگزوسیتوز مواد را جابه جا کنند.</p> <p>(د) یاخته های اصلی غده معده پپسین ترشح می کند.</p> <p>(ه) گاسترین باعث کاهش pH معده می شود.</p> <p>(و) در خون روشن اکسیژن بیشتر از خون تیره است.</p> <p>(ز) دیواره حبابک از سه نوع یاخته تشکیل شده است.</p> <p>(ح) حجم باقیمانده در ظرفیت تام محاسبه نمی شود.</p>	۲
۲	<p>جاهای خالی را با کلمات مناسب پر کنید.</p> <p>(الف) هستک در ساختن نقش دارد.</p> <p>(ب) یاخته های عصبی، یاخته های را تحریک می کنند تا منقبض شوند.</p> <p>(ج) در قسمت هایی از لوله گوارش ماهیچه های به نام بنداره (اسفنکتر) وجود دارد.</p> <p>(د) خون، لنف و مایع بین یاخته ای را تشکیل می دهند.</p> <p>(ه) گوارش در جانوری مانند هیدر، در بخشی به نام انجام می شود.</p> <p>(و) در حبابک ها گروهی از یاخته های دستگاه ایمنی به نام مستقر شده اند.</p> <p>(ز) افزایش خون از عوامل مؤثر در تنظیم تنفس است.</p> <p>(ح) برون شامه از بافت پوششی سنگفرشی و بافت تشکیل شده است.</p>	۲
۳	<p>عبارت مناسب را از داخل پرانتز انتخاب کنید.</p> <p>(الف) هر چه تفاوت تعداد مولکول های آب در واحد حجم در دو سوی غشاء (بیشتر / کمتر) باشد، فشار اسمزی بیشتر است.</p> <p>(ب) لایه زیر مخاط موجب می شود مخاط، روی (لایه ماهیچه ای / لایه عصبی) بچسبد.</p> <p>(ج) فراوان ترین لیپیدهای رژیم غذایی (تری گلیسرید / کلسترول) هستند.</p> <p>(د) انشعابی از (نایژه اصلی / نایژه) که دیگر غضروفی ندارد، نایژک نامیده می شود.</p> <p>(ه) در بافت (کربن دی اکسید / مونوکسید کربن) به هموگلوبین متصل می شود.</p> <p>(و) به هوایی که می توان پس از یک (دم معمولی / بازدم عمیق / بازدم معمولی) از شش ها خارج کرد، حجم ذخیره بازدمی می گویند.</p> <p>(ز) پرندگان علاوه بر شش، دارای ساختارهایی به نام (کیسه های هوادار / کیسه های حبابکی) هستند.</p>	۲



باسمه تعالی

پیش آزمون تشریحی هماهنگ دی ماه

(دوره دوم متوسطه)

نام و نام خانوادگی:

مدت آزمون: ۹۰ دقیقه

کلاس:

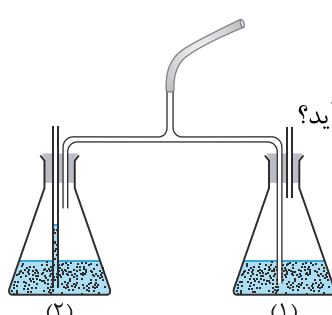
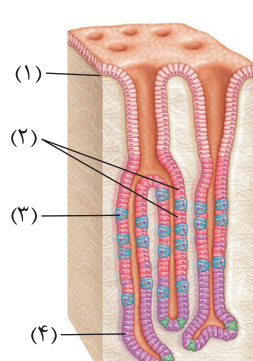
مدرسه:

تاریخ آزمون: دی ماه ۱۴۰۳

پایه: دهم (رشته تجربی)

نام درس: زیست شناسی

صفحه ۲ از ۴

ردیف	سؤال	بارم																
۴	<p>برای هر یک از عبارتهای زیر دلیل علمی بنویسید.</p> <p>الف) بافت پیوندی متراکم نسبت به سست استحکام بیشتری دارد.</p> <p>ب) همهٔ کربوهیدراتها در دستگاه گوارش ما به مونوساکارید تبدیل نمی شوند.</p> <p>ج) با وجود اینکه مری در کنار نای قرار دارد اما حرکت لقمه های بزرگ غذا در مری با مانعی روبه رو نمی شود.</p> <p>د) فرستادن پیام از گرهٔ دهلیزی بطنی به درون بطن با فاصلهٔ زمانی انجام می شود.</p>	۲																
۵	<p>با توجه به شکل، به پرسش های زیر پاسخ دهید.</p> <p>الف) در هنگام دم در کدام یک از ظرف ها حباب هوا دیده می شود؟</p> <p>ب) اگر در ظرف (۲) محلول برم تیمول بلو باشد بعد از چند دقیقه دم و بازدم به چه رنگی در می آید؟</p> <p>ج) در هنگام دم فشار هوای کدام ظرف کاهش می یابد؟</p> <p>د) هدف از انجام این آزمایش چیست؟</p> 	۱																
۶	<p>با توجه به «تنوع گوارش در جانداران» به سؤالات زیر پاسخ دهید.</p> <p>الف) گوارش درون سلولی در چه جاندارانی دیده می شود؟</p> <p>ب) گوارش مکانیکی غذا در ملخ ابتدا توسط چه اندامی انجام می شود؟</p> <p>ج) محل اصلی جذب در لولهٔ گوارش گاو در کجا است؟</p> <p>د) در پرندۀ دانه خوار از بین اندام های سنگدان و کبد کدام یک به سطح پشتی نزدیک تر است؟</p> <p>ه) یک پرسلولی که فاقد دستگاه گوارش است نام ببرید.</p>	۱/۵																
۷	<p>جدول زیر را کامل کنید.</p> <table><tr><th>دریچهٔ سینی آئورت</th><th>دریچهٔ سه لختی</th><th>دریچهٔ دولختی</th><th></th></tr><tr><td>.....</td><td>.....</td><td>بسته</td><td>انقباض بطنی</td></tr><tr><td>.....</td><td>باز</td><td>باز</td><td>استراحت عمومی</td></tr><tr><td>بسته</td><td>.....</td><td>باز</td><td>انقباض دهلیزی</td></tr></table>	دریچهٔ سینی آئورت	دریچهٔ سه لختی	دریچهٔ دولختی		بسته	انقباض بطنی	باز	باز	استراحت عمومی	بسته	باز	انقباض دهلیزی	۱
دریچهٔ سینی آئورت	دریچهٔ سه لختی	دریچهٔ دولختی																
.....	بسته	انقباض بطنی															
.....	باز	باز	استراحت عمومی															
بسته	باز	انقباض دهلیزی															
۸	<p>با توجه به شکل به پرسش های زیر پاسخ دهید.</p> <p>الف) سلول های هدف هورمون گاسترین کدامند؟</p> <p>ب) کدام سلول یون بیکربنات ترشح می کند؟</p> <p>ج) تخریب کدام سلول باعث کم خونی می شود؟</p> 	۱																



باسمه تعالی

پیش آزمون تشریحی هماهنگ دی ماه

(دوره دوم متوسطه)

نام و نام خانوادگی:

مدت آزمون: ۹۰ دقیقه

کلاس:

مدرس:

تاریخ آزمون: دی ماه ۱۴۰۳

پایه: دهم (رشته تجربی)

نام درس: زیست شناسی

صفحه ۳ از ۴

ردیف	سؤال	بارم
۹	<p>با توجه به شکل به پرسش های زیر پاسخ دهید.</p> <p>الف) خون قبل از عبور از دریچه (۱) از چه دریچه ای عبور کرده است؟</p> <p>ب) خون پس از عبور از چه دریچه ای گردش خون عمومی را شروع می کند؟</p> <p>ج) خون تیره پس از عبور از چه دریچه ای از قلب خارج می شود؟</p>	۰/۷۵
۱۰	<p>با توجه به شکل زیر به سؤالات پاسخ دهید.</p> <p>الف) در کدام ظرف لوگول تغییر رنگ می دهد؟</p> <p>ب) در کدام ظرف / ظرف ها آنزیم آمیلاز دیده می شود؟</p> <p>ج) در کدام ظرف هیدرولیز آبکافت انجام می شود؟</p>	۱
۱۱	<p>به سؤالات زیر پاسخ کوتاه بدهید.</p> <p>الف) یک تفاوت و یک شباهت سوخت های فسیلی و زیستی را بنویسید.</p> <p>ب) رشد به چند صورت اتفاق می افتد؟ توضیح دهید.</p>	۱
۱۲	<p>چند اشتباه در متن زیر وجود دارد؟ آنها را مشخص کنید.</p> <p>«کربوهیدرات های غشاء با اتصال به کلسترول، گلیکولیپید را می سازند. سه اسید چرب فسفولیپیدها در کنار هم هستند و گلیسرول و گروه فسفات در تماس با آب بیرون سلول و یا سیتوپلاسم هستند و همه مواد می توانند از غشاء عبور کنند. مولکول های اکسیژن همانند پروتئین ها از لایه لای فسفولیپیدها عبور کرده و وارد سلول می شوند.»</p>	۱
۱۳	<p>چرا سیاهرگ فوق کبدی گلوکز و اسید آمینه کمتری نسبت به سیاهرگ باب دارد؟</p>	۰/۲۵
۱۴	<p>گزینه صحیح را مشخص کنید.</p> <p>الف) خون خارج شده از حبابک ها به کدام حفره قلبی وارد می شود؟</p> <p>(۱) دهلیز راست (۲) بطن چپ (۳) دهلیز چپ</p> <p>ب) ترکیب کربن دی اکسید و آب توسط چه آنزیمی انجام می شود؟</p> <p>(۱) سورفاکتانت (۲) کربنیک انیدراز (۳) اسید کربنیک</p> <p>ج) با شروع فعالیت کدام مرکز دم خاتمه می یابد؟</p> <p>(۱) مرکز تنفس در بصل النخاع (۲) مرکز تنفس در نخاع (۳) مرکز تنفس در پل مغزی</p>	۰/۷۵



باسمه تعالی

پیش آزمون تشریحی هماهنگ دی ماه

(دوره دوم متوسطه)

نام و نام خانوادگی:

مدرسه:

کلاس:

مدت آزمون: ۹۰ دقیقه

پایه: دهم (رشته تجربی)

نام درس: زیست شناسی

تاریخ آزمون: دی ماه ۱۴۰۳

صفحه ۴ از ۴

ردیف	سؤال	بارم
۱۵	با توجه به نمودار نوار قلب به سؤالات زیر پاسخ دهید. الف) شروع ارسال پیام گره پیشاهنگ کدام نقطه است؟ ب) در نقطه B قلب در کدام وضعیت چرخه قلبی است؟ ج) در نقطه C دریچه‌های سینی در چه وضعیتی هستند؟	۰/۷۵
۱۶	در مقطع شش گوسفند، چرا دهانه سیاهرگ‌ها نسبت به سرخرگ‌ها بسته است؟	۰/۵
۱۷	کدام مورد مسیر درست حرکت غذا در لوله گوارش گاو را نشان می‌دهد؟ الف) دهان - مری - سیرابی - نگاری - هزارلا - شیردان - روده باریک - ... ب) دهان - مری - سیرابی - نگاری - سیرابی - هزارلا - شیردان - روده باریک - ... ج) دهان - مری - سیرابی - نگاری - مری - دهان - مری - سیرابی - نگاری - هزارلا - ... د) دهان - مری - سیرابی - نگاری - مری - دهان - مری - نگاری - هزارلا - ...	۰/۷۵
۱۸	شاخص توده بدنی چیست و اگر این شاخص بین ۲۵ تا ۳۰ باشد به چه معنی است؟	۰/۷۵
	جمع بارم	۲۰



باسمه تعالی

آزمون تشریحی هماهنگ دی ماه

(دوره دوم متوسطه)

نام و نام خانوادگی:

مدت آزمون: ۹۰ دقیقه

کلاس:

مدرسه:

تاریخ آزمون: دی ماه ۱۴۰۳

پایه: دهم (رشته تجربی)

نام درس: زیست شناسی

صفحه ۱ از ۴

ردیف	سؤال	بارم
۱	<p>درست یا نادرست بودن گزاره های زیر را مشخص کنید.</p> <p>الف) همه جانداران به همه محرک های محیطی پاسخ می دهند.</p> <p>ب) بخش محدب دستگاه گلژی به سمت غشاء پلاسمایی و بخش مقعر آن به سمت هسته می باشد.</p> <p>ج) در معده لایه ماهیچه مورب نسبت به لایه ماهیچه حلقوی به شبکه عصبی لایه زیر مخاطی نزدیک تر است.</p> <p>د) بنداره انتهای روده باریک، حفاصل بین روده کور و کولون بالارو قرار دارد.</p> <p>ه) در لوله آزمایش حاوی محلول نشاسته پس از اضافه کردن لوگول می توان رنگ آبی را مشاهده کرد.</p> <p>و) انتهای نوک تیز جناغ اندکی بالاتر از میان بند قرار گرفته است.</p> <p>ز) انشعابات پایانی نایدیس ها در کنار اغلب یاخته های بدن قرار می گیرد.</p> <p>ح) رشته های بافت هادی قلب، قبل از ورود به دیواره بین دو بطن منشعب می شوند.</p>	۲
۲	<p>هر یک از عبارت های زیر را با کلمه مناسب کامل کنید.</p> <p>الف) زیست بوم از چند بوم سازگان تشکیل می شود که از نظر اقلیم و مشابه اند.</p> <p>ب) محرمانه بودن اطلاعات ژنی و اطلاعات پزشکی افراد و از موضوع های اخلاق زیستی هستند.</p> <p>ج) پپسینوژن توسط اندامکی یاخته ای به نام تولید می شود.</p> <p>د) ترشحات کبد پرنده دانه خوار از طریق یک مجرا به وارد می شود.</p> <p>ه) در برش شش، سوراخ هایی که دارای لبه های نازک ولی زبر می باشند، نام دارند.</p> <p>و) حداکثر مقدار هوایی که شش ها می توانند در خود جای دهند نام دارد.</p> <p>ز) یاخته های ماهیچه ای قلبی از طریق با هم در ارتباط اند.</p> <p>ح) در بیماری هایی مثل ، بزرگ شدن قلب یا برخی نقایص مادرزادی ممکن است صداهای غیرعادی از قلب شنیده شود.</p>	۲
۳	<p>در هر یک از عبارت های زیر، کلمه مناسب را از داخل پرانتز انتخاب کنید.</p> <p>الف) در سطوح سازمان یابی حیات اندام نسبت به دستگاه در سطح (پایین تری / بالاتری) قرار دارد.</p> <p>ب) در بافت پیوندی سست رشته کشسان نسبت به کلاژن (نازک تر / ضخیم تر) می باشد.</p> <p>ج) ابتدای کولون افقی نسبت به انتهای آن در فاصله (دورتری / نزدیک تری) نسبت به کبد قرار دارد.</p> <p>د) (اغلب / همه) یاخته های غده معده با غشاء پایه در تماس اند.</p> <p>ه) در بخش هادی دستگاه تنفس (همانند / برخلاف) بخش مبادله ای می توان مخاط مؤکدار مشاهده کرد.</p> <p>و) لایه های پرده جنب دارای ضخامتی (برابر / نابرابر) نسبت به یکدیگر می باشند.</p> <p>ز) خارجی ترین رشته بین گرهی شبکه هادی قلب نسبت به رشته میانی (بلندتر / کوتاه تر) است.</p> <p>ح) در (همه / اغلب) بی مهرگان آبشش دار، آبشش ها به نواحی خاص محدود شده اند.</p>	۲



باسمه تعالی

آزمون تشریحی هماهنگ دی ماه

(دوره دوم متوسطه)

نام و نام خانوادگی:

مدرسه:

کلاس:

مدت آزمون: ۹۰ دقیقه

پایه: دهم (رشته تجربی)

نام درس: زیست شناسی

تاریخ آزمون: دی ماه ۱۴۰۳

صفحه ۲ از ۴

ردیف	سؤال	بارم
۴	در متن زیر ۴ غلط علمی وجود دارد. آنها را یافته و با توجه به آموخته‌های خود اصلاح کنید. «پس از خوردن ناهار، دستگاه گوارش وارد مرحله خاموشی نسبی می‌شود. دلیل این امر نیاز به ترشح شیره‌های گوارشی در زمان مناسب و به مقدار معین است. با مصرف این وعده غذایی، مواد غذایی درون معده تجمع می‌یابند. این اتفاق سبب کشیده شدن دیواره معده و تحریک حرکات قطعه‌قطعه‌کننده در آن می‌شود. پس از گوارش مواد غذایی در دوازدهه مونومرهایی مانند گلوکز وارد یاخته‌ها شده و در واکنش‌هایی مانند تنفس یاخته‌ای هوازی شرکت می‌کنند. طی این واکنش با سوختن گلوکز در حضور O_2 مولکول‌هایی مانند بی‌کربنات، H_2O و ATP تولید می‌شود. در صورت کمبود O_2 ، دستگاه عصبی به همراه شبکه هادی قلب با افزایش دیاستول بطن‌ها به طور موقت میزان برون‌دهی قلبی را افزایش داده تا روند اکسیژن‌رسانی به بافت‌ها به شکل طبیعی خود بازگردد.»	۲
۵	با توجه به شکل به سؤالات زیر پاسخ دهید.  (۱)  (۲) الف) دو ویژگی یاخته‌های بافت شماره (۲) را ذکر کنید. ب) عناصر سازنده درشت‌مولکول ذخیره‌شده در سیتوپلاسم یاخته‌های بافت شماره (۱) را نام ببرید. (۲ مورد)	۱
۶	در رابطه با گستره و سطوح سازمان‌یابی حیات به سؤالات زیر پاسخ دهید. الف) تشکیل گل در گیاه، نمونه‌ای از کدام ویژگی حیات است؟ ب) هم‌ایستایی را تعریف کنید. ج) اولین سطح سازمان‌یابی حیات که در آن عوامل غیرزنده مشاهده می‌شود را نام ببرید.	۱
۷	در رابط با یاخته یوکاریوتی و اندامک‌های آن به سؤالات زیر پاسخ دهید. الف) نقش اندامکی که از غشاء خارجی هسته نشأت می‌گیرد چیست؟ ب) دو اندامک کیسه‌ای شکل را نام ببرید. ج) اندامکی فاقد غشا و دارای نقشی مهم در تقسیم یاخته‌ای چه نام دارد؟	۱
۸	پروتئازهای لوزالمعده قوی و متنوع‌اند و می‌توانند خود لوزالمعده را نیز تجزیه کنند. بدن چگونه از این مسئله جلوگیری می‌کند؟	۵/۰



باسمه تعالی

آزمون تشریحی هماهنگ دی ماه

(دوره دوم متوسطه)

نام و نام خانوادگی:

مدت آزمون: ۹۰ دقیقه

کلاس:

مدرسه:

تاریخ آزمون: دی ماه ۱۴۰۳

پایه: دهم (رشته تجربی)

نام درس: زیست شناسی

صفحه ۳ از ۴

ردیف	سؤال	بارم
۹	با توجه به شکل زیر به سؤالات پاسخ دهید.  (الف) در سطحی ترین لایه شکل (۲) (بخش برآمده نه فرورفته) چند نوع یاخته پوششی دیده می شود؟ (ب) نام ساختار مشخص شده با علامت سؤال در شکل (۲) چیست و ذکر کنید این بخش در گوارش یا جذب کدام یک از انواع درشت مولکول ها مؤثر است؟ (ج) بزرگ ترین یاخته های بخش مشخص شده با علامت سؤال در شکل (۱) چه نام دارد و به دو نوع از ترشحات آن اشاره کنید.	۱/۵
۱۰	در پرسش های زیر مورد مناسب را پیدا کنید. (الف) در هنگام بلع کدام یک به سمت بالا می رود؟ (۱) زبان کوچک (۲) برچاکنای (ب) زیاد بودن LDL نسبت به HDL: (۱) کاهش احتمال رسوب کلسترول در دیواره سرخرگ (۲) افزایش احتمال رسوب کلسترول در دیواره سرخرگ	۰/۵
۱۱	در مورد جذب مواد و تنظیم فعالیت دستگاه گوارش به سؤالات زیر پاسخ دهید. (الف) تنظیم عصبی دستگاه گوارش توسط کدام بخش دستگاه عصبی انجام می شود؟ (ب) محل آغاز شبکه عصبی روده ای کجاست؟ (ج) کدام هورمون می تواند باعث افزایش pH حفره اصلی ترین محل جذب مواد گوارش یافته شود؟	۰/۷۵
۱۲	در ارتباط با تنوع گوارش در جانداران به سؤالات زیر پاسخ دهید. (الف) واکوئل گوارشی چگونه تشکیل می شود؟ (ب) پایین ترین بخش معده نشخوارکنندگان چه نام دارد؟ (ج) کدام اندام محل اصلی گوارش شیمیایی در ملخ می باشد؟	۰/۷۵
۱۳	در ارتباط با حجم های تنفسی به سؤالات زیر پاسخ دهید. (الف) حجم ذخیره بازدمی را تعریف کنید. (ب) مقدار هوایی که پس از یک دم عادی در دستگاه تنفس باقی می ماند بیشتر است یا مقدار هوایی که پس از یک دم عادی با یک دم عمیق وارد شش ها می شود؟ (ج) مقدار حجم های تنفسی به چه عاملی بستگی دارد؟ (یک مورد)	۱



باسمه تعالی

آزمون تشریحی هماهنگ دی ماه

(دوره دوم متوسطه)

نام و نام خانوادگی:

مدت آزمون: ۹۰ دقیقه

کلاس:

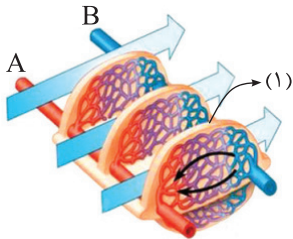
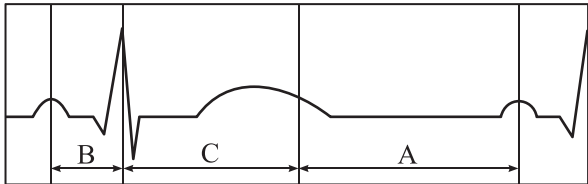
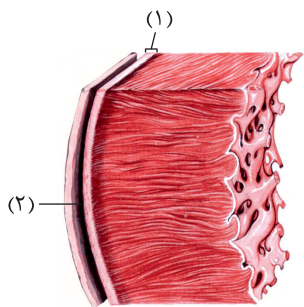
مدرسه:

تاریخ آزمون: دی ماه ۱۴۰۳

پایه: دهم (رشته تجربی)

نام درس: زیست شناسی

صفحه ۴ از ۴

ردیف	سؤال	بارم
۱۴	<p>با توجه به مطالب ذکر شده در فصل ۳ کتاب درسی به سؤالات زیر پاسخ دهید.</p> <p>الف) رنگ طبیعی آب آهک بدون حضور CO_2 کدام است؟</p> <p>ب) قطر نایژه‌های اصلی چپ و راست را در ساده‌ترین حالت ممکن با هم مقایسه کنید.</p> <p>ج) دلیل حالت اسفنجی شش چیست؟</p>	۰/۷۵
۱۵	<p>در مورد تنوع تبادلات گازی در جانداران به سؤالات زیر پاسخ دهید.</p> <p>الف) با توجه به شکل زیر، شماره (۱) را نام‌گذاری کنید و جهت جریان خون از A به سمت B یا B به سمت A؟</p>  <p>ب) انواع سازوکار تهویه‌ای در مهره‌داران را فقط نام ببرید؟</p> <p>ج) در بین مهره‌داران، جانورانی نسبت به سایرین انرژی بیشتری مصرف می‌کنند، این مهره‌داران برای افزایش کارایی تنفس دارای اجزایی تخصص‌یافته هستند. نام این اجزا چیست؟ به تعداد چند عدد در این دسته از مهره‌داران دیده می‌شود؟</p>	۱/۵
۱۶	<p>با توجه به شکل زیر به سؤالات پاسخ دهید.</p>  <p>الف) محل تقریبی بسته شدن دریچه‌های سینی را با علامت ضربدر (x) نمایش دهید.</p> <p>ب) در مرحله B وضعیت دریچه‌های دولختی به چه شکل است؟ (باز یا بسته)</p> <p>ج) در کدام یک از مراحل A، B و C فشارخون بطن‌ها با سرعت و شدت بیشتری در حال افزایش است؟</p>	۰/۷۵
۱۷	<p>با توجه به شکل زیر به سؤالات پاسخ دهید.</p> <p>الف) بافت‌های تشکیل‌دهنده بخش (۱) را نام ببرید.</p> <p>ب) دو وظیفه مایع پر شده در بخش (۲) را ذکر کنید.</p> 	۱
	جمع بارم	۲۰



دفترچه پاسخنامه

زیست‌شناسی پایه دهم

آرشیو آزمون‌های تشریحی نیمسال اول



باسمه تعالی

پاسخنامه آزمون تشریحی هماهنگ دی ماه

(دوره دوم متوسطه)

تاریخ آزمون: ۱۴۰۱/۱۰/۱۷

پاسخنامه درس: زیست شناسی

پایه: دهم (رشته تجربی)

صفحه ۱ از ۲

پاسخ سؤال ۱: (۲ نمره)

(ب) فشار اسمزی (۲۵/۰ نمره)

(الف) اجتماع (۲۵/۰ نمره)

(د) دم نگاره (یا اسپروگرام) (۲۵/۰ نمره)

(ج) سکر تین (۲۵/۰ نمره) - بی کربنات (۲۵/۰ نمره)

(و) جمعیت (۲۵/۰ نمره)

(ه) کربنیک انیدراز (۲۵/۰ نمره) - کربنیک اسید (۲۵/۰ نمره)

(زیست شناسی دهم، صفحه های ۸، ۱۳، ۲۸، ۳۹، ۴۲ و ۵۹)

پاسخ سؤال ۲: (هر مورد ۲۵/۰ نمره)

(الف) نادرست، صفاق در قفسه سینه دیده نمی شود.

(ب) نادرست، سه جفت غده بزاقی

(ج) درست

(د) نادرست، هوای دمی اکسیژن بیشتری دارد اما کربن دی اکسید هوای بازدمی نسبت به هوای دمی بیشتر است.

(ه) درست

(و) درست

(ز) نادرست، صفرا آنزیم ندارد.

(ح) نادرست، در ساختار دریچه های قلبی ماهیچه قلبی وجود ندارد و تنها بافت پوششی و بافت پیوندی متراکم دیده می شود.

(زیست شناسی دهم، صفحه های ۱۰، ۱۸، ۲۰، ۲۲، ۳۷، ۴۲، ۴۳، ۴۵ و ۴۶)

پاسخ سؤال ۳: (هر مورد ۲۵/۰ نمره)

(الف) متراکم

(ب) انقباض

(ج) واکوئل گوارشی

(د) افزایش

(ه) افزایش

(و) ماکروفاژ

(ز) صاف

(ح) برخلاف

(زیست شناسی دهم، صفحه های ۱۵، ۲۰، ۲۶، ۳۰، ۳۷، ۴۵ و ۵۸)

پاسخ سؤال ۴: (۱ نمره)

فسفولیپید: گلیسرول + فسفات + دو اسید چرب (۵/۰ نمره)

تری گلیسرید: گلیسرول + سه اسید چرب (۵/۰ نمره)

(زیست شناسی دهم، صفحه ۱۰)

پاسخ سؤال ۵: (هر مورد ۲۵/۰ نمره)

(الف) غشای پایه یاخته ندارد.

(ب) ریز پرزها و حتی پرزها

(ج) چروکیده می شود یا آب خالص (اشاره به هر یک درست می باشد)

(د) هر جانوری

(زیست شناسی دهم، صفحه ۵۶)

پاسخ سؤال ۶: (۲۵/۱ نمره)

(الف) ظرف (الف) (۲۵/۰ نمره)

(ب) شیرین رنگ (۲۵/۰ نمره)

(ج) هم در هوای دمی و هم در هوای بازدمی کربن دی اکسید وجود دارد (۲۵/۰ نمره) و میزان کربن دی اکسید هوای بازدمی بیشتر است (۲۵/۰ نمره)

(د) برم تیمول بلو رقیق (۲۵/۰ نمره)

(زیست شناسی دهم، صفحه ۳۵)

پاسخ سؤال ۷: (هر مورد ۷۵/۰ نمره)

(الف) انواع یاخته ها (۲۵/۰ نمره)، رشته های پروتئینی (۲۵/۰ نمره) و ماده زمینه ای (۲۵/۰ نمره)

(ب) سه شکل بی کربنات (۲۵/۰ نمره)، محلول در خوناب (پلازما) (۲۵/۰ نمره) و به وسیله هموگلوبین (۲۵/۰ نمره)

(ج) در نوزاد دوزیستان تنفس آبششی (۲۵/۰ نمره)، در دوزیستان بالغ، تنفس پوستی (۲۵/۰ نمره) و تنفس ششی (۲۵/۰ نمره)

(د) از سطح بدن (۲۵/۰ نمره)، چون کرم کدو فاقد دهان (۲۵/۰ نمره) و دستگاه گوارش (۲۵/۰ نمره) است.

(زیست شناسی دهم، صفحه های ۱۵، ۳۰، ۳۹، ۴۵ و ۴۶)



باسمه تعالی

پاسخنامه آزمون تشریحی هماهنگ دی ماه

(دوره دوم متوسطه)

تاریخ آزمون: ۱۴۰۱/۱۰/۱۷

پاسخنامه درس: زیست شناسی

پایه: دهم (رشته تجربی)

صفحه ۲ از ۲

پاسخ سؤال ۸: (هر مورد ۵/۵ نمره)

- الف) کمبود پروتئین های خون، افزایش فشار خون درون سیاهرگ ها، مصرف زیاد نمک و مصرف کم مایعات (بیان دو مورد کافی است - هر مورد ۵/۲۵ نمره)
- ب) زیرا باید خون را به کل بدن پمپاژ نماید (۵/۵ نمره)
- ج) مانع از انقباض همزمان دهلیزها و بطن ها می شود. (۵/۵ نمره)

(زیست شناسی دهم، صفحه های ۵۰، ۵۱ و ۵۸)

پاسخ سؤال ۹: (۱/۲۵ نمره)

- الف) حجم خونی که در هر انقباض بطنی (۲۵/۵ نمره) از یک بطن خارج (۲۵/۵ نمره) و وارد سرخرگ می شود، حجم ضربه ای نامیده می شود.
- ب) حداکثر مقدار هوایی است که شش ها می توانند در خود جای دهند (۲۵/۵ نمره) برابر است با مجموع ظرفیت حیاتی (۲۵/۵ نمره) و حجم باقی مانده (۲۵/۵ نمره)

(زیست شناسی دهم، صفحه های ۴۳ و ۵۳)

پاسخ سؤال ۱۰: (۱/۵ نمره)

- الف) شماره ۵ (۲۵/۵ نمره) راست روده (۲۵/۵ نمره)
- ب) شماره ۳ (۲۵/۵ نمره)
- ج) شماره ۲ (۲۵/۵ نمره)
- د) آب (۲۵/۵ نمره) و یون ها (۲۵/۵ نمره)

(زیست شناسی دهم، صفحه ۲۶)

پاسخ سؤال ۱۱: (۵/۵ نمره)

دستگاه های عصبی (۲۵/۵ نمره) و هورمونی (۲۵/۵ نمره)

(زیست شناسی دهم، صفحه ۲۷)

پاسخ سؤال ۱۲: (هر مورد ۵/۵ نمره)

- الف) این عامل باعث می شود شش ها در حالت بازدم کاملاً جمع نشوند. (۵/۵ نمره)
- ب) زیرا در بزاق نشاسته وجود ندارد (۲۵/۵ نمره) و لوگول در مجاورت نشاسته تغییر رنگ می دهد. (۲۵/۵ نمره)

(زیست شناسی دهم، صفحه های ۲۴، ۵۷ و ۵۸)

پاسخ سؤال ۱۳: (هر مورد ۲۵/۵ نمره)

- ۱- بافت پوششی سنگفرش چندلایه ای
- ۲- مری (یا پوست)
- ۳- بافت ماهیچه ای صاف
- ۴- دیواره لوله گوارش (یا دیواره سرخرگ ها و سیاهرگ ها یا دیواره نایژه ها و نایزک ها)

(زیست شناسی دهم، صفحه های ۱۵ و ۱۶)

پاسخ سؤال ۱۴: (۷۵/۵ نمره)

موارد ب) (۲۵/۵ نمره) و ج) (۲۵/۵ نمره) و ه) (۲۵/۵ نمره) درست هستند.

(زیست شناسی دهم، صفحه ۴۱)

پاسخ سؤال ۱۵: (۲۵/۵ نمره)

گزینۀ (۲)

(زیست شناسی دهم، صفحه ۵۳)



پاسخ سؤال ۱: (هر مورد ۲۵/۰ نمره)

الف) نادرست، شناخت روابط گیاهان و محیط‌زیست

ب) نادرست، تجزیه پیکر جانداران!

ج) درست، تنها بخش‌های موجود در حفره شکمی به صفاق وصل هستند.

د) درست، ماهیچه مورب مربوط به اندام معده است، ماهیچه‌های معده همگی نوع صاف‌اند.

ه) درست، pH معده اسیدی است و مطابق فعالیت صفحه ۲۲ پپسین در pH اسیدی بهترین عملکرد را دارد.

و) نادرست، هم معده و هم لوزالمعده دارای چندین پروتئاز می‌باشند. به پیش‌ساز پروتئازهای معده پپسینوژن می‌گویند و پروتئازهای لوزالمعده قوی و متنوع‌اند.

ز) درست

CO ₂	O ₂	
کمتر از ۱٪	۲۱٪	هوای دمی
۴٪	۱۷٪	هوای بازدمی

ح) نادرست، تا انتهای بخش مبادله‌ای مخاط مژکدار وجود دارد.

ط) نادرست، خونی که از قلب عبور می‌کند نمی‌تواند نیازهای تنفسی و غذایی ماهیچه قلب را تأمین کند.

ی) نادرست، تمام سیاهرگ‌های ششی (با خون روشن) به دهلیز چپ ختم می‌شوند.

(زیست‌شناسی دهم، صفحه‌های ۴، ۶، ۱۸، ۱۹، ۲۲، ۲۳، ۳۴، ۳۷ و ۴۹)

پاسخ سؤال ۲: (۲/۵ نمره)

الف) بافت

ب) گونه - جمعیت

ج) جانوران

د) پرز - مخاط / لایه مخاطی

ه) میان‌بند / دیافراگم - بین‌دنده‌ای خارجی

و) درون‌شامه (آندوکارد) - دریچه‌ها

(زیست‌شناسی دهم، صفحه‌های ۸، ۱۰، ۱۶، ۴۱ و ۵۶)

پاسخ سؤال ۳: (هر مورد ۲۵/۰ نمره)

۱- حفره‌های دهانی

۲- واکوئول غذایی

۳- واکوئول دفعی

۴- کافنده تن حاوی آنزیم‌های گوارشی

پاسخ سؤال ۴: (هر مورد ۲۵/۰ نمره)

۱- ج

۲- ه

۳- الف

۴- و

۶- ز

۷- د

۵ و ب اضافه هستند.

پاسخ سؤال ۵: (۲ نمره)

الف) چروکیده - آب‌نمک (۵/۰ نمره)

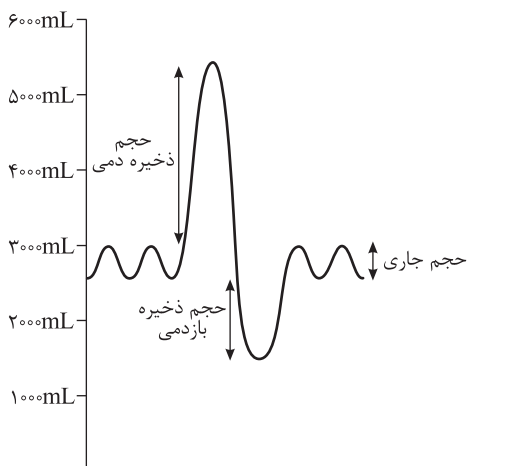
ب) درشت‌خوارها یاخته‌هایی با ویژگی بیگانه‌خواری و توانایی حرکت‌اند. (۲۵/۰ نمره) در کیسه‌های حبابکی یافت می‌شوند. (۲۵/۰ نمره)

ج) در جاهای متعدد، بافت پوششی حبابک و مویرگ هر دو غشاء پایه مشترک دارند. در نتیجه مسافت انتشار گازها به حداقل ممکن رسیده است. (۵/۰ نمره)

د) بطن چپ - بافت پوششی سنگفرشی و بافت پیوندی متراکم (۵/۰ نمره)

(زیست‌شناسی دهم، صفحه‌های ۱۳، ۳۷، ۳۸ و ۵۱)

پاسخ سؤال ۶: (۱ نمره)



(زیست‌شناسی دهم، صفحه ۴۳)



باسمه تعالی

پاسخنامه پیش آزمون تشریحی هماهنگ دی ماه

(دوره دوم متوسطه)

تاریخ آزمون: دی ماه ۱۴۰۱

پاسخنامه درس: زیست شناسی (سری ۱)

پایه: دهم (رشته تجربی)

صفحه ۲ از ۲

پاسخ سؤال ۷: (۲ نمره)

الف) همانند (۲۵/۰ نمره)

ب) همانند - پروتئین های سراسری (۵/۰ نمره)

ج) دریاچه سه لختی - باز (۵/۰ نمره)

د) برخلاف - ندارد (۵/۰ نمره)

ه) حجم باقی مانده (۲۵/۰ نمره)

(زیست شناسی دهم، ۱۳، ۱۴، ۴۳، ۴۵، ۴۶ و ۵۳)

پاسخ سؤال ۸: (هر مورد ۱ نمره)

الف) خون تیره از سیاهرگ روده به سیاهرگ باب می ریزد. سیاهرگ باب پس از ورود به کبد ایجاد شبکه مویرگی می دهد و پس از ذخیره مواد در کبد خون شبکه مویرگی

وارد سیاهرگ فوق کبدی شده و بعد از طریق بزرگ سیاهرگ زیرین به دهلیز راست می ریزد. (۱ نمره)

ب) دوزیستانی مانند قورباغه به کمک ماهیچه های دهان و حلق با حرکتی شبیه به قورت دادن، هوا را با فشار به شش ها می رانند. (۱ نمره)

ج) دستگاه عصبی خودمختار (۵/۰ نمره)

شبکه عصبی روده ای (۵/۰ نمره)

(زیست شناسی دهم، صفحه های ۲۷، ۴۶ و ۶۰)

پاسخ سؤال ۹: (هر مورد ۲۵/۰)

الف) یاخته های عصبی

ب) بطن ها

ج) پوششی

د) ۵/۰

ه) دهلیزی بطنی

و) پل مغزی

پاسخ سؤال ۱۰: (هر مورد ۲۵/۰ نمره)

الف) میتوکندری

ب) ریبوزوم

ج) آکسون

د) گاسترین

ه) چربی

و) سیاهرگ

ز) سیتوپلاسم

ح) هوای مرده

ط) بازدم عمیق و سریع

ی) نوزاد دوزیستان

ک) کمتر

ل) فسفولیپید

(زیست شناسی دهم، صفحه های ۱۰، ۱۱، ۱۲، ۱۶، ۲۱، ۲۸، ۴۰، ۴۲، ۴۴، ۴۶، ۵۸ و ۵۹)

مرکز سنجش آموزش مدارس برتر



پاسخ سؤال ۱: (هر مورد ۵/۰ نمره)

الف) ۲	ب) ۴	ج) ۱	د) ۳
ه) ۴	و) ۲	ز) ۳	ح) ۳
ط) ۲			

(زیست‌شناسی دهم، صفحه‌های ۸، ۱۰، ۱۸، ۲۱، ۴۰، ۴۳، ۴۹ و ۵۲)

پاسخ سؤال ۲: (هر مورد ۵/۰ نمره)

- الف) درست، تمامی مولکول‌های زیستی حداقل از سه عنصر کربن، هیدروژن و اکسیژن تشکیل شده‌اند.
- ب) نادرست، در روش درون‌بری و برون‌رانی، انرژی لازم است ولی پروتئین غشایی دخالت ندارد.
- ج) درست، در تمامی لایه‌ها بافت پوششی حضور دارد (مویرگ‌های خونی) پس غشای پایه هم وجود دارد.
- د) نادرست، ورود مواد به محیط داخلی جذب نام دارد و محیط داخلی شامل خون، لنف و مایع بین‌بافتی است.
- ه) نادرست، ماکروفاژ جزو سلول‌های تشکیل‌دهنده حبابک نمی‌باشد، در آنجا مستقر است.
- و) درست، در انتقال کربن دی‌اکسید به روش ترکیب با هموگلوبین و یون بی‌کربنات، گلوبول قرمز نقش دارد.
- ز) درست، در مرحله دیاستول قلب دریچه‌های دولختی و سه‌لختی باز هستند، در نتیجه خون وارد شده به دهلیزها، به بطن وارد می‌شود.
- ح) نادرست، ابتدا دریچه‌های سینی بسته می‌شوند و سپس صدای دوم شنیده می‌شود.
- ط) درست، کربن دی‌اکسید می‌تواند با آب واکنش داده، کربنیک‌اسید تولید کند و pH را کاهش دهد و باعث تغییر ساختار پروتئین‌ها و اختلال در عملکرد آنها شود که اختلال گسترده‌ای را در کار یاخته‌ها و بافت‌ها ایجاد می‌کند.

(زیست‌شناسی دهم، صفحه‌های ۸، ۹، ۱۰، ۱۲، ۱۳، ۱۵، ۱۸، ۲۵، ۳۸، ۳۹، ۵۰، ۵۲، ۵۳ و ۵۶)

پاسخ سؤال ۳: (هر مورد ۲۵/۰ نمره)

الف) کبد	ب) هر دو	ج) مخاط	د) سنگدان
ه) کاهش می‌یابد	و) گرم کردن هوای دمی	ز) نایژک مبادله‌ای	ح) سرفه کردن
ط) سیستمول بطن‌ها	ی) بافت پوششی	ک) بافت پیوندی متراکم	ل) ۴ رگ

(زیست‌شناسی دهم، صفحه‌های ۱۵، ۲۷، ۳۰، ۳۱، ۳۶، ۳۸، ۴۴، ۴۸ و ۵۳)

پاسخ سؤال ۴: (هر مورد ۲۵/۰ نمره)

الف) پاسخ به محیط

ب) هم‌ایستایی

(زیست‌شناسی دهم، صفحه ۷)

پاسخ سؤال ۵: (هر مورد ۲۵/۰ نمره)

الف) لیزوزوم (کافنده تن)

ب) میتوکندری

(زیست‌شناسی دهم، صفحه ۱۱)

پاسخ سؤال ۶: (هر مورد ۲۵/۰ نمره)

الف) انتقال فعال

ب) انتشار ساده

(زیست‌شناسی دهم، صفحه‌های ۱۲ تا ۱۴)

پاسخ سؤال ۷: (هر مورد ۲۵/۰ نمره)

- الف) خیر، فشار اسمزی مایع اطراف یاخته‌ها تقریباً مشابه درون آنهاست در نتیجه آب بیش از حد وارد نمی‌شود و یاخته‌ها از خطر تورم و ترکیدن حفظ می‌شوند.
- ب) گذرندگی (آسمز)

(زیست‌شناسی دهم، صفحه ۱۳)

پاسخ سؤال ۸: (هر مورد ۲۵/۰ نمره)

الف) حلق	ب) لیپاز لوزالعمده	ج) روده باریک	د) آمیلاز بزاق
ه) اسکلتی	و) هورمون گاسترین		

(زیست‌شناسی دهم، صفحه‌های ۱۸، ۱۹، ۲۰، ۲۱، ۲۲ و ۲۸)



باسمه تعالی

پاسخنامه پیش آزمون تشریحی هماهنگ دی ماه

(دوره دوم متوسطه)

تاریخ آزمون: دی ماه ۱۴۰۱

پاسخنامه درس: زیست شناسی (سری ۲)

پایه: دهم (رشته تجربی)

صفحه ۲ از ۲

پاسخ سؤال ۹: (هر مورد ۰/۲۵ نمره)

الف) محرک ترشح اسید و پپسینوژن در معده می باشد. (ب) سبب افزایش ترشح بی کربنات لوزالمعده می شود.

(زیست شناسی دهم، صفحه ۲۸)

پاسخ سؤال ۱۰: (هر مورد ۰/۵ نمره)

الف) پرندگان علاوه بر شش ها، کیسه های هوادار نیز دارند.

ب) شش - تنفس پوستی

(زیست شناسی دهم، صفحه های ۴۵ و ۴۶)

پاسخ سؤال ۱۱: (هر مورد ۰/۵ نمره)

الف) محلول لوگل در حضور نشاسته تغییر رنگ می دهد. هنگامی که بزاق دهان را به محتویات لوله اضافه کنیم، چون نشاسته را به مولکول های کوچک تر تبدیل می کند، به دلیل عدم حضور نشاسته تغییر رنگی نیز مشاهده نمی شود.

ب) پروتئازهای لوزالمعده در ابتدا غیرفعال هستند و در روده باریک فعال می شوند.

ج) قطعات غضروفی در نایژه اصلی، حلقه کامل است در حالی که در نای به شکل حرف C می باشد.

د) یاخته های ماهیچه ای از طریق صفحات بینابینی با هم ارتباط دارند و به دلیل وجود این ارتباط، پیام انقباض به سرعت بین یاخته های ماهیچه قلب منتشر می شود در نتیجه قلب مانند یک توده ی یاخته ای واحد عمل می کند.

ه) چون بطن ها خون را به سمت بالا و به درون سرخرگ ها می فرستند، برای تخلیه کامل بطن بهتر است انقباض از پایین شروع و به سمت بالا ادامه یابد.

و) مسیر عروق کرونری در سطح شکمی کج و به سمت راست متمایل است ولی در سطح پشتی مستقیم به سمت پایین قلب آمده است.

(زیست شناسی دهم، صفحه های ۲۳، ۲۴، ۳۶، ۳۷، ۵۰، ۵۱ و ۵۲)

مرکز سنجش آموزش مدارس برتر



مرکز سنجش آموزش مدارس برتر

باسمه تعالی

پاسخنامه آزمون تشریحی مدارس سلام

(دوره دوم متوسطه)

تاریخ آزمون: ۱۴۰۰/۱۰/۱۹

صفحه ۱ از ۲



مجموعه مدارس سلام

پاسخنامه درس: زیست‌شناسی

پایه: دهم (رشته تجربی)

پاسخ سؤال ۱: (هر مورد ۲۵/۰ نمره)

- الف) درست (صفحه ۲) ب) نادرست (صفحه ۱۱) پ) نادرست (صفحه ۵۶) ت) نادرست (صفحه ۵۳)
ث) درست (صفحه ۳۸) ج) نادرست (صفحه ۱۵) چ) نادرست (صفحه ۳۹) ح) درست (صفحه ۴۹)

پاسخ سؤال ۲: (هر مورد ۲۵/۰ نمره)

- الف) برچاکنای - زبان کوچک (صفحه ۲۰) ب) فروکتوز (صفحه ۹) پ) حشرات - قورباغه بالغ یا کرم خاکی (صفحه ۴۵)
ت) کربن مونواکسید (صفحه ۳۹) ث) عامل داخلی معده - اسید کلریدریک (صفحه ۲۱)

پاسخ سؤال ۳: (هر مورد ۲۵/۰ نمره)

- الف) ماهیچه‌ای - عصبی (صفحه ۱۶) ب) HDL - سرخرگ‌ها (صفحه ۳۶)
پ) انقباض بطن‌ها (صفحه ۵۶) ت) کمتر (صفحه ۳۴)
ث) هوای مرده (صفحه ۴۳) ج) سیاهرگی (صفحه ۵۸)

پاسخ سؤال ۴: (هر مورد ۲۵/۰ نمره)

- الف) همانند (صفحه ۱۲) ب) همانند (صفحه ۳۶) پ) برخلاف (صفحه ۵۹) ت) برخلاف (صفحه ۴۴)

پاسخ سؤال ۵: (هر مورد ۲۵/۰ نمره)

- الف) گزینه ۳ (صفحه ۸) ب) گزینه ۴ (صفحه ۵۸) پ) گزینه ۳ (صفحه ۳۶) ت) گزینه ۴ (صفحه ۲۶)

پاسخ سؤال ۶: (هر مورد ۲۵/۰ نمره)

فشار اسمزی کمتر است ← فشار اسمزی بیشتر است. (صفحه ۱۳)
در نتیجه آبی به آن وارد نمی‌شود ← در نتیجه آب بیش از حد وارد نمی‌شود.

پاسخ سؤال ۷: (هر مورد ۲۵/۰ نمره)

- عامل داخلی معده ← ویتامین B_{۱۲} (صفحه ۲۱)
گاسترین ← افزایش ترشح اسید معده (صفحه ۲۸)
ناپژک‌ها ← تنظیم مقدار هوای ورودی یا خروجی به دستگاه تنفس (صفحه ۲۷)
ماکروفاژ ← آخرین راه دفاعی در دستگاه تنفس (صفحه ۳۷)

پاسخ سؤال ۸: (هر مورد ۲۵/۰ نمره)

- الف) دنا (DNA) (صفحه ۶)
ب) هزارلا و شیردان (صفحه ۳۲)
پ) سیاهرگ‌های زیرترقوه‌ای چپ و راست (صفحه ۵۹)
ت) گیرنده حساس به فشار - گیرنده حساس به افزایش کربن دی‌اکسید - گیرنده حساس به افزایش یون هیدروژن (صفحه ۶)

پاسخ سؤال ۹: (هر مورد ۵/۰ نمره)

- الف) پاسخ به محیط کوتاه مدت است و با حذف محرک پاسخ داده نمی‌شود مثل خم شدن ساقه به سمت نور اما سازش با محیط کوتاه مدت نیست و در طول زمان ایجاد شده است مثل سفید بودن موی خرس قطبی (صفحه ۷)
ب) محافظت از قلب و کمک به حرکت روان آن (صفحه ۵۱)
پ) افزایش کربن دی‌اکسید سبب گشاد شدن سرخرگ‌های کوچک می‌شود و جریان خون را در آنها افزایش می‌دهد. (صفحه ۶۰)
ت) ATP + آب + کربن دی‌اکسید → ADP و فسفات + اکسیژن + گلوکز (صفحه ۳۴)



مرکز سندجی آموزش مدارس برتر

باسمه تعالی

پاسخنامه آزمون تشریحی مدارس سلام

(دوره دوم متوسطه)

تاریخ آزمون: ۱۴۰۰/۱۰/۱۹

صفحه ۲ از ۲

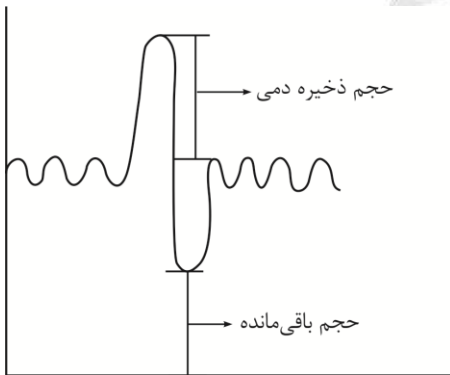
پاسخ سؤال ۱۰: (هر مورد ۵/۰ نمره)

- الف) در این بیماری گلوتن موجود در غذا سبب از بین رفتن ریزپررها و حتی پرزهای روده می‌شود در نتیجه سطح جذب مواد کاهش شدیدی پیدا می‌کند و بسیاری از مواد مغذی مورد نیاز بدن جذب نمی‌شود. (صفحه ۲۵)
- ب) تا مواد مغذی جذب شده در لوله گوارش به کبد منتقل شوند و در کبد از مواد جذب شده گلیکوژن و پروتئین ساخته می‌شود و موادی مانند آهن و برخی ویتامین‌ها در آن ذخیره شوند. (صفحه ۲۷)
- پ) در بینی شبکه‌ای وسیع از رگ‌ها با دیواره نازک وجود دارد تا هوا را گرم کند و چون به سطح درونی بینی بسیار نزدیک است پس آسان‌تر از دیگر نقاط دچار خون‌ریزی می‌شود. (صفحه ۳۶)
- ت) چون فشار خون در سرخرگ بالاست اگر سرخرگی در بدن بریده شود خون با سرعت زیاد از آن بیرون می‌ریزد که خطرناک است. پس سرخرگ‌ها معمولاً عمقی‌تر هستند تا احتمال آسیب به آنها کم باشد. (صفحه ۵۶)

پاسخ سؤال ۱۱: (هر مورد ۲۵/۰ نمره)

- الف) انتشار ساده (صفحه ۱۲)
- ب) اکسیژن یا کربن دی‌اکسید (صفحه ۱۲)

پاسخ سؤال ۱۲: (هر مورد ۲۵/۰ نمره)



(صفحه ۴۳)

پاسخ سؤال ۱۳: (هر مورد ۲۵/۰ نمره)

- الف) نشان دادن پیش معده در شکل
- ب) نشان دادن معده در شکل (صفحه ۳۱)

پاسخ سؤال ۱۴: (۳ نمره)

- الف) در صورت اتصال مری ← مری در سطح پشتی نای قرار دارد و در صورت عدم اتصال مری ← دهانه C شکل غضروف نای به سمت پشت نای است. (صفحه ۲۴)
- ب) چون بزاق آمیلاز یعنی آنزیم تجزیه کننده نشاسته را دارد پس در محلول نشاسته و بزاق تغییر رنگ ایجاد نمی‌کند. (صفحه ۴۱)
- پ) آب آهک (بی رنگ) ← شیری رنگ
برم تیمول بلو (ابی) ← زرد (صفحه ۳۵)
- ت) سرخرگ‌ها دیواره محکم‌تری از سیاهرگ‌ها دارند پس حتی در نبود خون هم باز هستند. (صفحه ۴۲)
- ث) مزیت ← ارزان‌تر از سوخت زیستی هستند.
- زبان ← با تولید زیاد کربن دی‌اکسید سبب آلودگی و گرمای زمین می‌شوند. (صفحه ۶)



باسمه تعالی

پاسخنامه پیش آزمون تشریحی مدارس سلام

(دوره دوم متوسطه)

تاریخ آزمون: دی ماه ۱۴۰۰

س ل ا م

مجموعه مدارس سلام

پاسخنامه درس: زیست‌شناسی

پایه: دهم (رشته تجربی)

صفحه ۱ از ۲

پاسخ سؤال ۱: (هر مورد ۲۵/۰ نمره)

الف) نادرست ب) درست پ) درست ت) نادرست

پاسخ سؤال ۲: (هر مورد ۲۵/۰ نمره)

الف) بصل النخاع - پل مغزی ب) آنورت پ) لاکتوز

پاسخ سؤال ۳: (هر مورد ۲۵/۰ نمره)

نوع ماهیچه	قلبی	صاف	اسکلتی
تعداد هسته	اغلب تک و برخی دو هسته‌ای	۱	چند هسته‌ای
وضعیت شروع انقباض	غیر ارادی	غیر ارادی	ارادی / غیر ارادی
شکل یاخته‌ها	منشعب	دوکی	استوانه‌ای
ظاهر ماهیچه	مخطط	صاف	مخطط

پاسخ سؤال ۴: (۲/۵ نمره)

الف) پروتئازهای معده با نام کلی پپسینوژن به صورت غیرفعال ترشح می‌شوند و تحت تأثیر اسید معده به شکل پپسین فعال می‌شوند. پپسین خود با اثر بر پپسینوژن، تولید پپسین را بیشتر می‌کند.

ب) نمک‌های صفراوی - بیکربنات - کلسترول - فسفولیپید

ج) روده کور - کولون بالارو - کولون افقی - کولون پایین‌رو

پاسخ سؤال ۵: (۲/۵ نمره)

الف) خونی که میزان کربن دی‌اکسید بیشتری از خون روشن دارد.

ب) بخش‌هایی که در هدایت هوا به درون و بیرون دستگاه تنفسی نقش دارد.

پ) انشعابی از نایژه که غضروف ندارد.

ت) حجم خونی که در هر انقباض از یک بطن خارج و وارد سرخرگ می‌شود.

ث) مقدار هوایی که در یک دم عادی وارد یا در یک بازدم عادی خارج می‌شود.

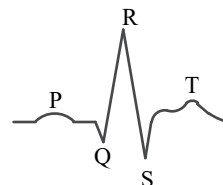
پاسخ سؤال ۶: (۱/۵ نمره)

الف) صدای اول (بوم) قوی، گنگ و طولانی‌تر صدای دوم (تاک) واضح و کوتاه‌تر

ب) صدای اول مربوط به بسته شدن دریچه‌های دولختی و سه لختی و صدای دوم مربوط به بسته شدن دریچه‌های سینی

پاسخ سؤال ۷: (۲ نمره)

الف)



کلیه ← منفذدار

ب) دستگاه عصبی مرکزی ← پیوسته

پ) سر سرخرگی مویرگ

پاسخ سؤال ۸: (۱ نمره)

۲) خنثی کردن حالت اسیدی کیموس معده

۲) شرکت در انواعی از هورمون‌ها

الف) ۱- کمک به گوارش چربی‌ها

ب) ۱- شرکت در ساخت غشاهای یاخته جانوری



باسمه تعالی

پاسخنامه پیش آزمون تشریحی مدارس سلام

(دوره دوم متوسطه)

تاریخ آزمون: دی ماه ۱۴۰۰

س ل م

مجموعه مدارس سلام

پاسخنامه درس: زیست‌شناسی

پایه: دهم (رشته تجربی)

صفحه ۲ از ۲

پاسخ سؤال ۹: (۱ نمره)

الف) تحریکی الکتریکی از طریق صفحات بینابینی از دهلیز به بطن نمی‌رود و نیاز به گره دوم است و به همین دلیل انتشار تحریک الکتریکی از دهلیزها به بطن‌ها با تأخیر انجام می‌شود که باعث می‌شود تا انقباض بطن‌ها با فاصله از انقباض دهلیزها، انجام شود.
ب) چون مایع جنب همیشه فشار منفی دارد پس باعث می‌شود تا حتی در عمیق‌ترین بازدم، حبابک‌ها روی هم قرار نگیرند و هوای باقی مانده در آنها وجود داشته باشد.

پاسخ سؤال ۱۰: (۱/۵ نمره)

الف) از فرو رفتن بافت پوششی مخاط به بافت پیوندی زیرین خود.
ب) خیر زیرا انتقال ژن در مهندسی ژنتیک حتماً بایستی سبب ایجاد صفت جدیدی در فرد شود.
پ) تخم مرغ را برای مدتی در سرکه قرار دهیم تا پوسته آهکی تجزیه شود.

پاسخ سؤال ۱۱: (۲ نمره)

الف) بطن چپ خون را به گردش عمومی می‌فرستد که مسیری طولانی‌تر است پس باید فشار وارد بر خون در آن بیشتر باشد پس بطن چپ قوی‌تر است.
ب) تا کارایی تنفسی آنها افزایش یابد زیرا برای پرواز به انرژی زیادی نیاز دارند.
پ) وجود صفحات بینابینی میان سلول‌های ماهیچه‌ای قلبی باعث این موضوع می‌شود.
ت) تا عبور مولکول‌های درشت مثل پروتئین‌ها را محدود کند.

پاسخ سؤال ۱۲: (۱ نمره)

الف) مری
ب) به سمت حلق و دهان

پاسخ سؤال ۱۳: (۱ نمره)

در شکل الف) سیرابی (۱) و ب) شیردان (۴) را نشان دهد.

مرکز سنجش آموزش مدارس برتر



پاسخ سؤال ۱: (هر مورد ۲۵/۰ نمره)

- الف) نادرست، مهندسی ژنتیک انتقال ژن بین جانداران است و نه جانوران.
 ب) نادرست، جانداران بخشی از انرژی زیستی را به صورت گرما از دست می‌دهند.
 ج) درست، در واکنش‌های آبکافت آب مصرف می‌شود.
 د) درست، تجزیه گلیکوژن در کبد یک واکنش آبکافت است.
 ه) نادرست، از یک بطن نه از قلب
 و) درست، تحت هر شرایطی اکسیژن هوای دمی و بازدمی از کربن دی‌اکسید آنها بیشتر است.
 ز) درست، خون با فشار بیشتر وارد آئورت و گردش عمومی خون شود.
 ح) درست

(زیست‌شناسی دهم، صفحه‌های ۴، ۷، ۲۳، ۲۷، ۳۰، ۳۵، ۴۸ و ۵۳)

پاسخ سؤال ۲: (هر مورد ۵/۰ نمره)

- الف) کلسترول، چون فقط در غشاء سلول‌های جانوری است.
 ب) گشاد شدن لوله گوارش
 ج) کلسترول - چربی - لیپید، سیاهرگ باب با خود گلوکز و اسید آمینه می‌آورد و نه لیپید.
 د) لایه زیر مخاط
 ه) ماهیچه دیافراگم و بین‌دنده‌ای خارجی - ظرفیت حیاتی یک بازدم عمیق است.
 و) غده بناگوشی
 ز) بازدم
 ح) نایزک‌ها

(زیست‌شناسی دهم، صفحه‌های ۱۰، ۱۹، ۲۰، ۲۷، ۳۵ و ۴۱)

پاسخ سؤال ۳: (هر مورد ۲۵/۰ نمره)

- الف) بوم‌سازگان
 ب) پیوندی
 ج) محیط‌زیست
 د) نورون
 ه) گلیکوژن - سلولز
 و) دولختی (میترال) - سینی

(زیست‌شناسی دهم، صفحه‌های ۴، ۸، ۹، ۲۱ و ۴۹)

پاسخ سؤال ۴: (هر مورد ۵/۰ نمره)

- الف) گزینه ۲
 ب) گزینه ۳
 ج) گزینه ۴
 د) گزینه ۱

(زیست‌شناسی دهم، صفحه‌های ۲، ۳، ۳۱، ۳۲ و ۴۱)

پاسخ سؤال ۵: (هر مورد ۲۵/۰ نمره)

- الف) نمو
 ب) بوم‌سازگان
 ج) میتوکندری
 د) کربوهیدرات

(زیست‌شناسی دهم، صفحه‌های ۷، ۸، ۱۱ و ۲۱)

پاسخ سؤال ۶: (هر مورد ۲۵/۰ نمره)

- الف) برخلاف
 ب) حلقوی
 ج) مخاط
 د) چروکیده
 ه) پروتئازهای لوزالمعده
 و) دارد
 ز) می‌شود
 ح) دارد

(زیست‌شناسی دهم، صفحه‌های ۹، ۱۴، ۱۸، ۳۵، ۴۶ و ۴۹)

پاسخ سؤال ۷: (۱ نمره)

تعداد ضربان در دقیقه \times حجم ضربه‌ای = برون‌ده قلبی
 $500 \text{ mlit} = x \times 75$
 $x = \frac{5000}{75} = 66,6 \text{ mlit}$

(زیست‌شناسی دهم، صفحه ۵۳)

پاسخ سؤال ۸: (۲۵/۲ نمره)

- ۱- یاخته کناری
 ۲- یاخته اصلی
 ۳- یاخته ترشح کننده ماده مخاطی
 ۴- حفره معده
 الف) ماده مخاطی و یون بی‌کربنات
 ب) بر سلول‌های اصلی اثر گذاشته باعث افزایش ترشح پپسینوژن می‌شود.
 بر سلول‌های کناری اثر گذاشته باعث افزایش ترشح HCl (اسید کلریدریک) می‌شود.

(زیست‌شناسی دهم، صفحه‌های ۲۱ و ۲۲)



باسمه تعالی

پاسخنامه پیش آزمون تشریحی هماهنگ دی ماه

(دوره دوم متوسطه)

تاریخ آزمون: دی ماه ۱۴۰۲

پاسخنامه درس: زیست شناسی (سری ۱)

پایه: دهم (رشته تجربی)

صفحه ۲ از ۲

پاسخ سؤال ۹: (۲ نمره)

بصل النخاع (۸)

غشاء سیتوپلاسمی (۴)

جذب آب (۵)

pH اسیدی (۷)

سمت راست بدن (۳)

ساخت آنزیم آمیلاز (۱)

هسته کناری (۲)

(زیست شناسی دهم، صفحه های ۱۶، ۱۸، ۲۵، ۳۲ و ۴۳)

پاسخ سؤال ۱۰: (هر مورد ۵/۰ نمره)

الف) دو مورد از موارد مشخص شده (۵/۰ نمره): هوا را به درون و بیرون دستگاه تنفسی هدایت می کنند و آن را از ناخالصی ها پاکسازی می کنند و هوا را گرم و مرطوب می کنند.

ب) پیروی از حرکات قفسه سینه (۲۵/۰ نمره) و ویژگی کشسانی (۲۵/۰ نمره)

(زیست شناسی دهم، صفحه های ۳۵ و ۴۰)

پاسخ سؤال ۱۱: (هر مورد ۲۵/۰ نمره)

ب) بافت پیوندی سست

الف) دیواره مویرگ (یا دیواره داخلی قلب یا دیواره حبابک)

ج) ماهیچه بیشتر قسمت های لوله گوارش (یا نای و نایژه و نایژک)

(زیست شناسی دهم، صفحه های ۱۵ و ۱۶)



مرکز سنجش آموزش مدارس برتر



باسمه تعالی

پاسخنامه پیش آزمون تشریحی هماهنگ دی ماه

(دوره دوم متوسطه)

تاریخ آزمون: دی ماه ۱۴۰۲

پاسخنامه درس: زیست شناسی (سری ۲)

پایه: دهم (رشته تجربی)

صفحه ۱ از ۲

پاسخ سؤال ۱: (هر مورد ۲۵/۰ نمره)

الف) درست، نشاسته و سلولز	ب) نادرست
ج) درست، پارامسی (تکسلولی) و هیدر (پرسلولی)	د) درست
ه) درست، به دلیل بالا بودن کلسترول و ایجاد سنگ صفراوی	و) نادرست، ماکروفاژهای موجود در حبابک
ز) نادرست، ذخیره دمی	ح) نادرست

(زیست شناسی دهم، صفحه های ۱۶، ۲۶، ۳۰، ۳۵، ۳۷، ۴۱ و ۴۳)

پاسخ سؤال ۲: (هر مورد ۵/۰ نمره)

الف) استخوان	ب) معده، چون گلوتن پروتئین است، گوارش شیمیایی پروتئین ها از معده شروع می شود.
ج) واکوئل گوارشی	د) برم تیمول بلو
ه) دولایه	و) لوزالمعده
ز) ذخیره بازدمی	ح) ستاره دریایی

(زیست شناسی دهم، صفحه های ۱۵، ۲۰، ۲۳، ۳۰، ۳۵، ۳۸، ۴۱، ۴۳ و ۴۶)

پاسخ سؤال ۳: (هر مورد ۲۵/۰ نمره)

الف) آمینواسید	ب) یون بی کربنات	ج) کم چگال	د) هوای دمی
ه) ارادی	و) خودمختار	ز) دی اکسید کربن	ح) دیواره پشته دهلیز راست

(زیست شناسی دهم، صفحه های ۱۰، ۱۶، ۲۳، ۲۶، ۲۷، ۳۴، ۴۴ و ۵۲)

پاسخ سؤال ۴: (هر مورد ۵/۰ نمره)

الف) گزینه ۲	ب) گزینه ۱	ج) گزینه ۲	د) گزینه ۲
--------------	------------	------------	------------

(زیست شناسی دهم، صفحه های ۹، ۱۰، ۱۶، ۱۹، ۲۶، ۵۰ و ۵۳)

پاسخ سؤال ۵: (هر مورد ۲۵/۰ نمره)

الف) پزشکی شخصی	ب) پروتئین	ج) غشای پایه	د) دارینه
-----------------	------------	--------------	-----------

(زیست شناسی دهم، صفحه های ۶، ۱۵ و ۱۶)

پاسخ سؤال ۶: (هر مورد ۲۵/۰ نمره)

الف) متراکم	ب) طولی	ج) دو
د) نمو	ه) قطعه قطعه کننده	و) سکر تین - خون - افزایش

(زیست شناسی دهم، صفحه های ۷، ۱۵، ۱۹، ۲۸ و ۳۸)

پاسخ سؤال ۷: (۱ نمره)

الف) افراد یک گونه که در زمان و مکانی خاص زندگی می کنند یک جمعیت نامیده می شوند.
ب) ماهیچه و استخوان

(زیست شناسی دهم، صفحه ۸)

پاسخ سؤال ۸: (۱ نمره)

الف) استراحت عمومی و انقباض دهلیزی	ب) ۵/۵
ج) ۵/۵	د) کمی پیش از پایان انقباض بطن و شروع استراحت

(زیست شناسی دهم، صفحه های ۵۳ و ۵۴)

پاسخ سؤال ۹: (۷۵/۰ نمره)

یاخته، رشته های پروتئینی و ماده زمینه ای
--

(زیست شناسی دهم، صفحه ۱۵)

پاسخ سؤال ۱۰: (هر مورد ۵/۰ نمره)

الف) مواد جذب نشده و گوارش نیافته، یاخته های مرده و باقیمانده شیرهای گوارشی
ب) کولون پایین رو

(زیست شناسی دهم، صفحه ۲۶)



مرکز سنجش آموزش مدارس برتر

صفحه ۲ از ۲

باسمه تعالی

پاسخنامه پیش آزمون تشریحی هماهنگ دی ماه

(دوره دوم متوسطه)

تاریخ آزمون: دی ماه ۱۴۰۲

پاسخنامه درس: زیست شناسی (سری ۲)

پایه: دهم (رشته تجربی)

پاسخ سؤال ۱۱: (هر مورد ۷۵/۰ نمره)

الف) سه نوع گاز: اکسیژن O_2 ، دی اکسید کربن CO_2 ، مونوکسید کربن CO
ب) دو نوع: یک نوع جایگاه برای اتصال CO_2 و یک نوع جایگاه برای اتصال به CO و O_2

(زیست شناسی دهم، صفحه ۳۹)

پاسخ سؤال ۱۲: (۱ نمره)

نایزک ها (۲۵/۰ نمره) - تماس با هوا (۲۵/۰ نمره) - افزایش می یابد (۲۵/۰ نمره) - بعضی یاخته های حبابک ها (۲۵/۰ نمره)

(زیست شناسی دهم، صفحه ۳۷)

پاسخ سؤال ۱۳: (هر مورد ۷۵/۰ نمره)

الف) دریچه های سینی از بازگشت خون از سرخرگ ها به بطن ها جلوگیری می کنند. (۲۵/۰ نمره)
ب) در ابتدای سرخرگ آنورت (۲۵/۰ نمره) بالای دریچه سینی (۲۵/۰)

(زیست شناسی دهم، صفحه های ۴۹ و ۵۰)



مرکز سنجش آموزش مدارس برتر



پاسخ سؤال ۱: (هر مورد ۲۵/۰ نمره)

- الف) نادرست (ب) نادرست (ج) نادرست، کمتر از روده باریک (د) نادرست، موسین نقش آنزیمی ندارد.
ه) نادرست (و) نادرست، بین دنده‌ای خارجی (ز) نادرست، ابتدای بینی پوست مودار است. (ح) درست

(زیست شناسی دهم، صفحه‌های ۸، ۱۳، ۲۰، ۲۲، ۲۷، ۳۵، ۴۱ و ۴۸)

پاسخ سؤال ۲: (هر مورد ۲۵/۰ نمره)

- الف) بیشتر (ب) پراکندگی جانداران (ج) فاکتور داخلی معده (د) ریزپرز
ه) هوای مرده (و) کربنیک‌انیدراز (ز) کمتر (ح) بطن‌ها

(زیست شناسی دهم، صفحه‌های ۸، ۱۵، ۲۱، ۲۵، ۳۹، ۴۳، ۴۸ و ۵۰)

پاسخ سؤال ۳: (هر مورد ۲۵/۰ نمره)

- الف) انتشار تسهیل شده (ب) مورب (ج) پیوندی (د) جنس
ه) کاهش اکسیژن (و) کیسه‌های هوا دار (ز) پشت (ح) سینی ششی

(زیست شناسی دهم، صفحه‌های ۱۳، ۲۱، ۴۳، ۴۴، ۴۶، ۴۸ و ۴۹)

پاسخ سؤال ۴: (هر مورد ۵/۰ نمره)

- الف) شش راست از شش چپ بزرگ‌تر بوده و نسبت به شش چپ یک بخش یا لوب اضافه‌تر دارد.
ب) به دلیل حضور بزاق و آمیلاز موجود در آن نشاسته تجزیه شده و لوگول تغییر رنگ نمی‌دهد.
ج) به دلیل افزایش سطح جذب و تماس
د) فسفولیپیدها علاوه بر عناصر ذکر شده دارای یون فسفات نیز می‌باشند.

(زیست شناسی دهم، صفحه‌های ۱۰، ۲۰، ۲۵، ۴۱ و ۴۲)

پاسخ سؤال ۵: (هر مورد ۲۵/۰ نمره)

- الف) از آب مقطر به داخل تخم‌مرغ
ج) خیر، اسمز نیاز به انرژی زیستی ندارد.
ب) سفیده تخم‌مرغ - تخم‌مرغ
د) پرده نازک

(زیست شناسی دهم، صفحه ۱۳)

پاسخ سؤال ۶: (۱/۲۵ نمره)

- الف) ضربه گیری، عایق حرارتی (۵/۰ نمره)
ب) گلیکوژن، گلوکز (۵/۰ نمره)
ج) شبکه آندوپلاسمی صاف: دور از هسته و نزدیک به غشا / شبکه آندوپلاسمی زبر: نزدیک هسته و دور از غشا (۵/۰ نمره)
د) انرژی جنبشی مولکول‌ها (۲۵/۰ نمره)

(زیست شناسی دهم، صفحه‌های ۹ تا ۱۲ و ۱۵)

پاسخ سؤال ۷: (۱ نمره)

- سلیاک بر اثر پروتئین گلوتن (۲۵/۰ نمره) (که در گندم و جو وجود دارد) به وجود می‌آید و یاخته‌های روده تخریب می‌شوند و ریزپرزها و حتی پرزها (۲۵/۰ نمره) از بین می‌روند. در نتیجه سطح جذب مواد کاهش شدیدی پیدا می‌کند (۲۵/۰ نمره) و بسیاری از مواد مغذی مورد نیاز بدن جذب نمی‌شوند. (۲۵/۰ نمره)

(زیست شناسی دهم، صفحه ۲۵)

پاسخ سؤال ۸: (۱ نمره)

- الف) شماره ۷ (۲۵/۰ نمره)
ج) روده (۲۵/۰ نمره) - غده‌های بزاقی (۲۵/۰ نمره)
ب) ترشح آنزیم‌های گوارشی به پیش‌معه (۲۵/۰ نمره)

(زیست شناسی دهم، صفحه ۳۱)

پاسخ سؤال ۹: (۱ نمره)

- الف) شماره ۴ (۲۵/۰ نمره)
ب) بخش شماره ۵: غده معده (۲۵/۰ نمره)
ج) سلول شماره ۲ (۲۵/۰ نمره)
سلول شماره ۱: سلول‌های ترشح‌کننده ماده مخاطی (۲۵/۰ نمره)

(زیست شناسی دهم، صفحه ۲۱)



مرکز سنجش آموزش مدارس برتر

صفحه ۲ از ۲

باسمه تعالی

پاسخنامه آزمون تشریحی هماهنگ دی ماه

(دوره دوم متوسطه)

پاسخنامه درس: زیست شناسی

پایه: دهم (رشته تجربی)

پاسخ سؤال ۱۰: (۷۵/۰ نمره)

الف) ابتدا کولون افقی (سمت راست) پایین تر از انتهای آن (سمت چپ) قرار دارد. (۵/۰ نمره)
ب) ماده مخاطی (۲۵/۰ نمره)

(زیست شناسی دهم، صفحه ۲۶)

پاسخ سؤال ۱۱: (هر مورد ۲۵/۰ نمره)

الف) سیرابی
ب) هزارلا

(زیست شناسی دهم، صفحه ۳۲)

پاسخ سؤال ۱۲: (هر مورد ۲۵/۰ نمره)

الف) دیافراگم و بین دنده ای خارجی
ب) H تا G
ج) گنبدی
د) حجم جاری

(زیست شناسی دهم، صفحه های ۴۱ و ۴۳)

پاسخ سؤال ۱۳: (۵/۰ نمره)

حلقه غضروفی نایژه های اصلی کامل و نای C شکل است، پس در صورت برش از دهانه C شکل نای، این کار راحت تر صورت می گیرد.

(زیست شناسی دهم، صفحه ۴۲)

پاسخ سؤال ۱۴: (۵/۰ نمره)

یکی آنکه دیواره غضروفی آن، مجرای عبور هوا را باز نگه می دارد و دیگر آنکه درپوشی به نام برچاکنای (اپی گلوت) دارد که مانع ورود غذا به مجرای تنفسی می شود.

(زیست شناسی دهم، صفحه ۳۶)

پاسخ سؤال ۱۵: (۲۵/۰ نمره)

دیواره پشته دهلیز راست و زیر منفذ بزرگ سیاهرگ زیرین

(زیست شناسی دهم، صفحه ۵۲)

پاسخ سؤال ۱۶: (۱ نمره)

الف) دریچه های دولختی و سه لختی بسته (۲۵/۰ نمره) و دریچه های سینی باز (۲۵/۰ نمره) هستند.
ب) در سیستول (۲۵/۰ نمره)
ج) در شماره (۱) (۲۵/۰ نمره)

(زیست شناسی دهم، صفحه های ۵۳ و ۵۴)

پاسخ سؤال ۱۷: (۵/۰ نمره)

برم تیمول بلو: \leftarrow بدون حضور CO_2 \leftarrow آبی
 \leftarrow پس از حضور CO_2 \leftarrow زرد

(زیست شناسی دهم، صفحه ۳۵)

پاسخ سؤال ۱۸: (هر مورد ۵/۰ نمره)

الف) ۱- حالت C شکل غضروف نای به شکل مقابل « سطح عقبی \leftarrow C \rightarrow سطح جلویی ». ۲- مری در پشت نای قرار دارد.
ب) نایژه ها: دارای لبه زیر و غضروفی / سیاهرگ ها: دهانه نرم و بسته در نبود خون

(زیست شناسی دهم، صفحه های ۴۱ و ۴۲)

پاسخ سؤال ۱۹: (۲۵/۰ نمره)

سرخرگ های شش و آئورت، بزرگ سیاهرگ های زیرین و بخشی از زیرین

(زیست شناسی دهم، صفحه ۵۰)



پاسخنامه پیش آزمون تشریحی هماهنگ دی ماه

(دوره دوم متوسطه)

تاریخ آزمون: دی ماه ۱۴۰۳

پاسخنامه درس: زیست شناسی

پایه: دهم (رشته تجربی)

پاسخ سؤال ۱: (هر مورد ۲۵/۰ نمره)

الف) درست	ب) درست	ج) نادرست	د) نادرست
ه) درست	و) درست	ز) نادرست	ح) نادرست

(زیست شناسی دهم، صفحه های ۸، ۱۰، ۱۴، ۱۵، ۲۱، ۲۸، ۳۴، ۳۸ و ۴۳)

پاسخ سؤال ۲: (هر مورد ۲۵/۰ نمره)

الف) رناتن (ریبوزوم)	ب) ماهیچه	ج) حلقوی	د) محیط داخلی
ه) حفره گوارشی	و) درشت خوار (ماکروفاژ)	ز) دی اکسید کربن	ح) پیوندی متراکم

(زیست شناسی دهم، صفحه های ۱۲، ۱۶، ۱۸، ۲۵، ۳۰، ۳۷، ۴۴ و ۵۱)

پاسخ سؤال ۳: (هر مورد ۲۵/۰ نمره)

الف) بیشتر	ب) لایه ماهیچه ای	ج) تری گلیسرید	د) نایژه
ه) کربن دی اکسید	و) بازدم معمولی - بازدم عمیق	ز) کیسه های هوادار	

(زیست شناسی دهم، صفحه های ۱۳، ۱۹، ۲۳، ۳۷، ۳۹، ۴۲ و ۴۶)

پاسخ سؤال ۴: (هر مورد ۵/۰ نمره)

- الف) چون رشته های کلاژن آن از بافت پیوندی سست تر است.
- ب) زیرا دستگاه گوارش ما آنزیم مورد نیاز برای گوارش همه کربوهیدرات ها را نمی سازد. مثلاً آنزیم مورد نیاز برای تجزیه سلولز را نمی سازد.
- ج) زیرا دهانه غضروف C شکل نای به سمت مری است.
- د) تا دهلیزها و بطن ها همزمان با هم منقبض نشوند و اول دهلیزها و بعد بطن ها منقبض شوند.

(زیست شناسی دهم، صفحه های ۱۵، ۲۳، ۳۶ و ۵۲)

پاسخ سؤال ۵: (هر مورد ۲۵/۰ نمره)

- الف) ظرف (۲)
- ب) زرد می شود.
- ج) ظرف (۲)
- د) هوای دمی و بازدمی را از نظر مقدار نسبی کربن دی اکسید بررسی کنیم.

(زیست شناسی دهم، صفحه ۳۵)

پاسخ سؤال ۶: (۱/۵ نمره)

- الف) پارامسی و هیدر (۵/۰ نمره)
- ب) آرواره (۲۵/۰ نمره)
- ج) روده باریک (۲۵/۰ نمره)
- د) سنگدان (۲۵/۰ نمره)
- ه) کرم کدو (۲۵/۰ نمره)

(زیست شناسی دهم، صفحه های ۳۰ تا ۳۲)

پاسخ سؤال ۷: (هر مورد ۲۵/۰ نمره)

دریچه دولختی	دریچه سه لختی	دریچه سینی آئورت
بسته	بسته	باز
باز	باز	بسته
باز	باز	بسته

(زیست شناسی دهم، صفحه ۵۳)

پاسخ سؤال ۸: (۱ نمره)

- الف) ۳ و ۴ (۵/۰ نمره)
- ب) ۱ (۲۵/۰ نمره)
- ج) ۳ (۲۵/۰ نمره)

(زیست شناسی دهم، صفحه ۲۱)

پاسخ سؤال ۹: (هر مورد ۲۵/۰ نمره)

- الف) ۴
- ب) ۲
- ج) ۱

(زیست شناسی دهم، صفحه ۴۹)



پاسخ سؤال ۱۰: (۱ نمره)

الف) ۲ (۵/۰ نمره) ب) ۱ و ۳ (۵/۰ نمره) ج) ۳ (۵/۰ نمره)

(زیست شناسی دهم، صفحه ۲۴)

پاسخ سؤال ۱۱: (هر مورد ۵/۰ نمره)

الف) شباهت: هر دو منشاء زیستی دارند. تفاوت: سوخت های فسیلی از تجزیه جانداران قدیمی است اما سوخت های زیستی از تجزیه پیکرهای جانداران امروزی است.
ب) به دو صورت. رشد شامل افزایش برگشتناپذیر ابعاد یا تعداد یاخته است.

(زیست شناسی دهم، صفحه های ۶ و ۷)

پاسخ سؤال ۱۲: (هر مورد ۵/۰ نمره)

کربوهیدرات های غشاء با اتصال به کلیسترول، گلیکولیپید را می سازند. سه اسید چرب فسفولیپیدها در کنار هم هستند و گلیسرول و گروه فسفات در تماس با آب بیرون سلول و یا سیتوپلاسم هستند و همه مواد می توانند از غشاء عبور کنند. مولکول های اکسیژن همانند پروتئین ها از لایه لای فسفولیپیدها عبور کرده و وارد سلول می شوند.

(زیست شناسی دهم، صفحه ۱۲)

پاسخ سؤال ۱۳: (۵/۰ نمره)

زیرا سیاهرگ باب ابتدا به کبد می رود و مواد مغذی جذب شده آن در کبد ذخیره می شود.

(زیست شناسی دهم، صفحه ۲۷)

پاسخ سؤال ۱۴: (هر مورد ۵/۰ نمره)

الف) ۳- دهلیز چپ ب) ۲- کرینیک انیدراز ج) ۳- مرکز تنفس در پل مغزی

(زیست شناسی دهم، صفحه های ۳۹، ۴۳، ۴۴ و ۴۸)

پاسخ سؤال ۱۵: (هر مورد ۵/۰ نمره)

الف) D ب) سیستول بطنی ج) بسته اند.

(زیست شناسی دهم، صفحه ۵۴)

پاسخ سؤال ۱۶: (۵/۰ نمره)

زیرا سرخرگ ها دیواره محکم تری نسبت به سیاهرگ ها دارند و به همین علت برخلاف سیاهرگ ها دهانه آنها حتی در نبود خون هم باز است.

(زیست شناسی دهم، صفحه ۴۲)

پاسخ سؤال ۱۷: (۷۵/۰ نمره)

گزینۀ ۳

(زیست شناسی دهم، صفحه ۳۲)

پاسخ سؤال ۱۸: (۷۵/۰ نمره)

(فرد بیش از بیست سال سن دارد.) بین ۲۵ تا ۳۰ به معنی داشتن وزن اضافه است.

$$\text{جرم (kg)} = \frac{\text{شاخص توده بدنی}}{\text{مربع قد (m}^2\text{)}}$$

(زیست شناسی دهم، صفحه ۲۸)

سرگروه	گروه طراحی و بازنگری (به ترتیب حروف الفبا)	ویراستاران (به ترتیب حروف الفبا)
سهیل حبیبیان	محدثه افروشه - امید قوبدل	فاطمه سادات طباطبایی - معصومه فرهادی

واحد فنی (به ترتیب حروف الفبا)
زهرا احدی - امیرعلی الماسی - مبینا بهرامی - معین الدین تقی زاده - پریا رحیمی - مهرداد شمسی - راضیه صالحی - انسیه مرزبان



باسمه تعالی

پاسخنامه آزمون تشریحی هماهنگ دی ماه

(دوره دوم متوسطه)

تاریخ آزمون: دی ماه ۱۴۰۳

پاسخنامه درس: زیست شناسی

پایه: دهم (رشته تجربی)

صفحه ۱ از ۲

پاسخ سؤال ۱: (هر مورد ۲۵/۰ نمره)

الف) نادرست	ب) نادرست	ج) درست	د) درست
ه) درست	و) نادرست	ز) نادرست	ح) نادرست

(زیست شناسی دهم، صفحه های ۷، ۱۱، ۱۸، ۱۹، ۲۱، ۲۴، ۲۶، ۴۰، ۴۵ و ۵۲)

پاسخ سؤال ۲: (هر مورد ۲۵/۰ نمره)

الف) پراکندگی جانداران	ب) حقوق جانوران	ج) ریبوزوم یا رناتن	د) روده باریک
ه) نایژه	و) ظرفیت تام	ز) صفحات بینابینی یا درهم رفته	ح) اختلال در ساختار دریچه ها

(زیست شناسی دهم، صفحه های ۴، ۸، ۱۱، ۲۱، ۳۱، ۴۲، ۴۳، ۵۰ و ۵۱)

پاسخ سؤال ۳: (هر مورد ۲۵/۰ نمره)

الف) پایین تری	ب) نازک تر	ج) نزدیک تری	د) همه
ه) همانند	و) برابر	ز) بلندتر	ح) اغلب

(زیست شناسی دهم، صفحه های ۸، ۱۶، ۱۸، ۲۱، ۳۵ تا ۳۷، ۴۰، ۴۶ و ۵۲)

پاسخ سؤال ۴: (هر مورد ۵/۰ نمره)

- ۱- پس از خوردن غذا دستگاه گوارش وارد مرحله فعالیت شدید می شود.
- ۲- حرکات قطعه قطعه کننده در معده دیده نمی شود. (حرکات کرمی)
- ۳- طی تنفس هوازی (سوختن گلوکز در حضور O_2) بی کربنات تولید نمی شود. (CO_2 تولید می شود).
- ۴- سیستول بطن ها

(زیست شناسی دهم، صفحه های ۱۹، ۲۷، ۳۴، ۵۲ و ۵۳)

پاسخ سؤال ۵: (هر مورد ۵/۰ نمره)

- الف) تصویر مربوط به بافت پوششی است. دو ویژگی یاخته های بافت پوششی:
- ۱- یاخته های این بافت به یکدیگر بسیار نزدیک اند.
 - ۲- بین آنها فضای بین یاخته ای اندکی وجود دارد.
- ب) کربن - هیدروژن - اکسیژن (سؤال در مورد چربی ها است).

(زیست شناسی دهم، صفحه های ۱۰ و ۱۵)

پاسخ سؤال ۶: (۱ نمره)

- الف) رشد و نمو (۲۵/۰ نمره)
- ب) مجموعه اعمالی را که برای پایدار نگه داشتن وضعیت درونی جاندار انجام می شود هم ایستایی یا همئوستازی می نامند. (۵/۰ نمره)
- ج) بوم سازگان (۲۵/۰ نمره)

(زیست شناسی دهم، صفحه های ۷ و ۸)

پاسخ سؤال ۷: (۱ نمره)

- الف) شبکه آندوپلاسمی زبر نقش ساختن پروتئین ها (۲۵/۰ نمره)
- ب) شبکه آندوپلاسمی زبر - دستگاه گلژی - کافنده تن (لیزوزوم) - ریزکیسه (واکول) (۵/۰ نمره)
- ج) سانتربول یا میانک (۲۵/۰ نمره)

(زیست شناسی دهم، صفحه ۱۱)

پاسخ سؤال ۸: (۵/۰ نمره)

لوزالمعده پروتئین های خود را ابتدا به صورت غیرفعال ترشح می کند و این آنزیم ها پس از ورود به دوازدهه فعال می شوند.

(زیست شناسی دهم، صفحه ۲۳)

پاسخ سؤال ۹: (۱/۵ نمره)

- الف) ۲ نوع (۲۵/۰ نمره)
- ب) مویرگ لنفی - چربی ها و مواد محلول در چربی (۵/۰ نمره)
- ج) یاخته های کناری (۲۵/۰ نمره) - HCl یا اسید معده یا کلریدریک اسید و عامل داخلی معده (۵/۰ نمره)

(زیست شناسی دهم، صفحه های ۲۱، ۲۵ و ۲۶)

پاسخ سؤال ۱۰: (هر مورد ۲۵/۰ نمره)

- الف) زبان کوچک (شماره ۱)
- ب) افزایش احتمال رسوب کلسترول در دیواره سرخرگ ها (شماره ۲)

(زیست شناسی دهم، صفحه های ۲۰ و ۲۶)



باسمه تعالی

پاسخنامه آزمون تشریحی هماهنگ دی ماه

(دوره دوم متوسطه)

تاریخ آزمون: دی ماه ۱۴۰۳

پاسخنامه درس: زیست شناسی

پایه: دهم (رشته تجربی)

(زیست شناسی دهم، صفحه های ۲۷ و ۲۸)

ج) سکر تین

ب) مری

پاسخ سؤال ۱۱: (هر مورد ۲۵/۰ نمره)

الف) بخش خود مختار دستگاه عصبی

(زیست شناسی دهم، صفحه های ۳۰ تا ۳۲)

پاسخ سؤال ۱۲: (هر مورد ۲۵/۰ نمره)

الف) با پیوستن لیزوزوم ها به واکوئل غذایی و تخلیه آنزیم های لیزوزوم درون واکوئل غذایی

ب) شیردان

ج) پیش معده

(زیست شناسی دهم، صفحه های ۴۲ و ۴۳)

پاسخ سؤال ۱۳: (۱ نمره)

الف) مقدار هوایی که می توان پس از یک بازدم معمولی با یک بازدم عمیق از شش ها خارج کرد. (۵/۰ نمره)

ب) این دو از نظر مقدار با هم برابر هستند. (هر دو حدوداً ۳۰۰۰ میلی لیتر) (۲۵/۰ نمره)

ج) سن - جنسیت (۲۵/۰ نمره)

(زیست شناسی دهم، صفحه های ۳۵، ۳۷، ۴۱ و ۴۲)

ب) نایژه اصلی چپ > نایژه اصلی راست

پاسخ سؤال ۱۴: (هر مورد ۲۵/۰ نمره)

الف) بی رنگ

ج) به علت دارا بودن کیسه های حبابکی فراوان

(زیست شناسی دهم، صفحه ۴۶)

ب) ۱- پمپ فشار مثبت ۲- سازوکار فشار منفی

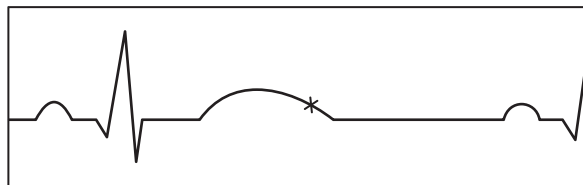
پاسخ سؤال ۱۵: (هر مورد ۵/۰ نمره)

الف) تیغه آبششی، $A \leftarrow B$

ج) کیسه های هوا دار، ۹ عدد

(زیست شناسی دهم، صفحه ۵۴)

پاسخ سؤال ۱۶: (هر مورد ۲۵/۰ نمره)



ج) C

ب) باز

(زیست شناسی دهم، صفحه ۵۱)

پاسخ سؤال ۱۷: (هر مورد ۵/۰ نمره)

الف) بافت پوششی سنگفرشی و بافت پیوندی

ب) محافظت از قلب - حرکت روان قلب

سرگروه	گروه طراحی و بازنگری (به ترتیب حروف الفبا)	ویراستاران (به ترتیب حروف الفبا)
سهیل حبیبیان	محدثه افروشه - سهیل حبیبیان - امید قویدل	فاطمه سادات طباطبایی - معصومه فرهادی

واحد فنی (به ترتیب حروف الفبا)	
زهرا احدی - امیرعلی الماسی - مبینا بهرامی - معین الدین تقی زاده - پریا رحیمی - مهرداد شمسی - راضیه صالحی - انسیه مرزبان	